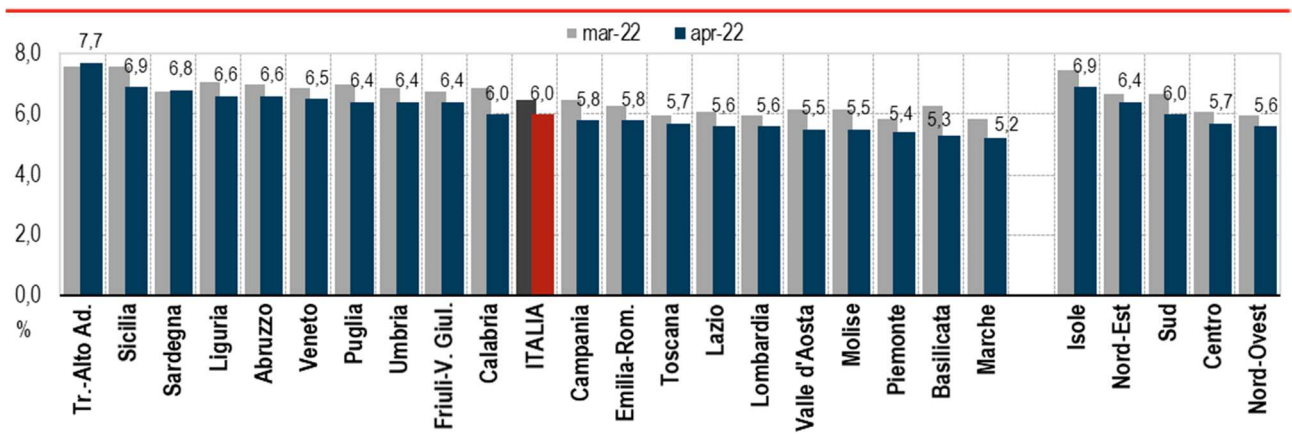


traccia	domanda 1 - amm/ord	domanda 2 - lavoro	domanda 3 - contabilità	domanda 4 - stat
89	Provvedimenti di autorizzazione, di concessione e ablatori	Modalità attuative del Percorso 5 nel Piano attuativo del Programma nazionale per la garanzia di occupabilità dei lavoratori (GOL) della regione Friuli Venezia Giulia.	I principi di annualità, unità e universalità nel decreto legislativo 118/2011	12new

12new. Che tipo di diagramma è il seguente? Cosa descrive?

FIGURA 5. INDICI DEI PREZZI AL CONSUMO NIC PER REGIONE E RIPARTIZIONE GEOGRAFICA Marzo – aprile 2022, variazioni percentuali tendenziali (base 2015=100)



Idoneità Informatica:

Si consideri il testo del file "word_1":

- a. Cambiare tipo di carattere
- b. Inserire una nota a piè pagina

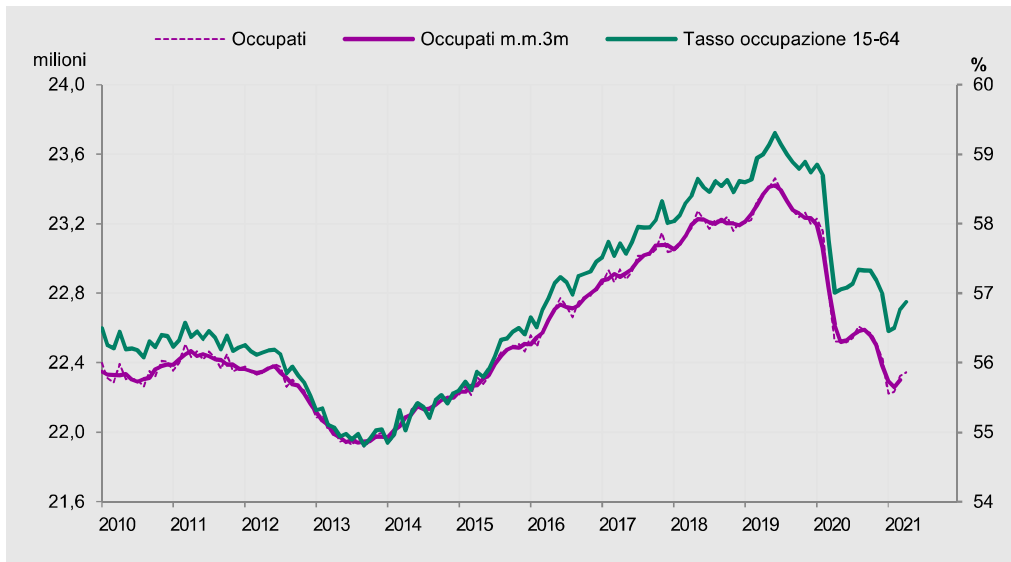
Idoneità Inglese:

Hobby

<i>traccia</i>	<i>domanda 1 - amm/ord</i>	<i>domanda 2 - lavoro</i>	<i>domanda 3 - contabilità</i>	<i>domanda 4 - stat</i>
38	6. Amministrazione attiva, consultiva, di controllo	1. Quali sono gli obiettivi del Programma nazionale per la garanzia di occupabilità dei lavoratori (GOL)?	Le fasi del procedimento di spesa e, in particolare, l'impegno	12

12. Che tipo di diagramma è il seguente? A cosa corrisponde il tasso di occupazione? Commentare il grafico

Figura 1.9 Andamento dell'occupazione in Italia. Occupati (milioni, scala sinistra) e tasso di occupazione (valori percentuali, scala destra) (a). Anni 2010-2021 (aprile)



Fonte: Istat, Rilevazione sulle forze di lavoro
(a) Dati provvisori.

Idoneità Informatica:

Si consideri il documento del file "word_4" e lo importi in un file di presentazione powerpoint.

Idoneità Inglese:

Viaggi

traccia	domanda 1 - amm/ord	domanda 2 - lavoro	domanda 3 - contabilità	domanda 4 - stat
66	9. La struttura del provvedimento amministrativo	12. Modalità attuative del Percorso 3 nel Piano attuativo del Programma nazionale per la garanzia di occupabilità dei lavoratori (GOL) della regione Friuli -Venezia Giulia.	5. Principi costituzionali in materia di bilancio	3

3. Si supponga di fare un'indagine su un campione di aziende produttive in cui vengono raccolte le seguenti caratteristiche. Quali sono variabili qualitative (nominali, ordinali) e quali sono quantitative?
- Numero dipendenti
 - Età media dipendenti
 - Età del manager
 - Fatturato annuo
 - Settore produttivo ATECO
 - Quota export sulle vendite

Idoneità Informatica:

Si consideri la tabella nel foglio "tabella 1":

- Aggiungere colonna per una nuova variabile 0,1 che prende 1 se l'età è superiore a 65

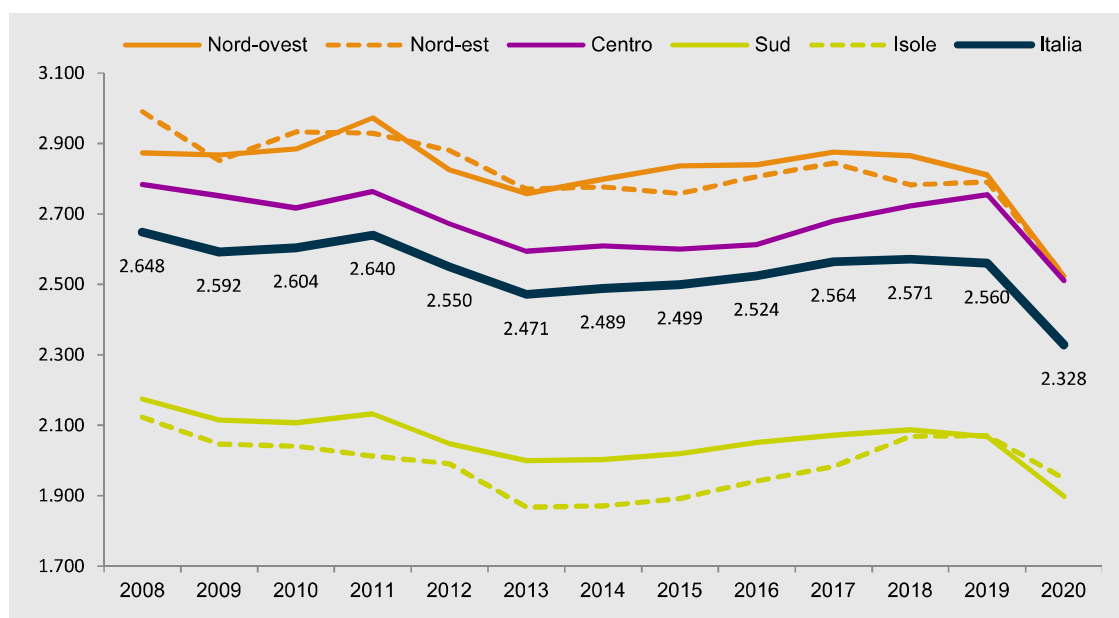
Idoneità Inglese:

Presenta te stesso

<i>traccia</i>	<i>domanda 1 - amm/ord</i>	<i>domanda 2 - lavoro</i>	<i>domanda 3 - contabilità</i>	<i>domanda 4 - stat</i>
71	Regolamenti e riserva di legge	3. Quali sono i percorsi individuati dal Programma nazionale per la garanzia di occupabilità dei lavoratori (GOL)?	12. Il principio della veridicità, attendibilità, correttezza e comprensibilità nel decreto legislativo 118/2011	15

15. Commentare il grafico

Figura 1.19 Spesa media mensile delle famiglie per ripartizione geografica. Anni 2008-2020 (valori in euro)



Fonte: Istat, Indagine sulle spese delle famiglie

Idoneità Informatica:

Si consideri la tabella nel foglio "tabella 6":

- si uniscano le celle iniziali riferite a corsi dello stesso dipartimento
- si distinguano le parti di tabella riferite a stesso dipartimento

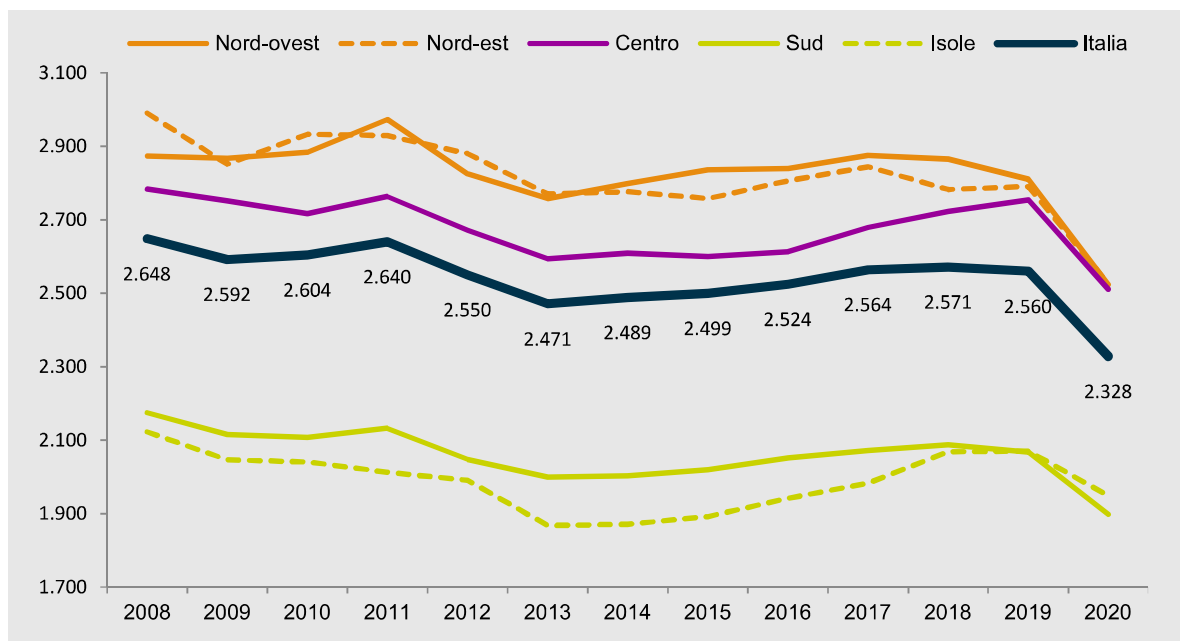
Idoneità Inglese:

Esperienze di lavoro

<i>traccia</i>	<i>domanda 1 - amm/ord</i>	<i>domanda 2 - lavoro</i>	<i>domanda 3 - contabilità</i>	<i>domanda 4 - stat</i>
30*	La tutela davanti al giudice amministrativo contro gli atti della pubblica amministrazione	Le azioni per la compatibilità del Programma nazionale per la garanzia di occupabilità dei lavoratori (GOL) e le misure regionali o nazionali a valere sul FSE + nel Piano attuativo della regione Friuli Venezia Giulia.	La prenotazione delle risorse	15*

15. Che tipo di grafico è riportato sotto? Quali evidenze si possono trarre in termini di comparazione geografica e trend temporale?

Figura 1.19 Spesa media mensile delle famiglie per ripartizione geografica. Anni 2008-2020 (valori in euro)



Fonte: Istat, Indagine sulle spese delle famiglie

Idoneità Informatica:

Si consideri il testo del file "word_1":

- a. Organizzare il testo aumentando i margini e inserendo un riquadro

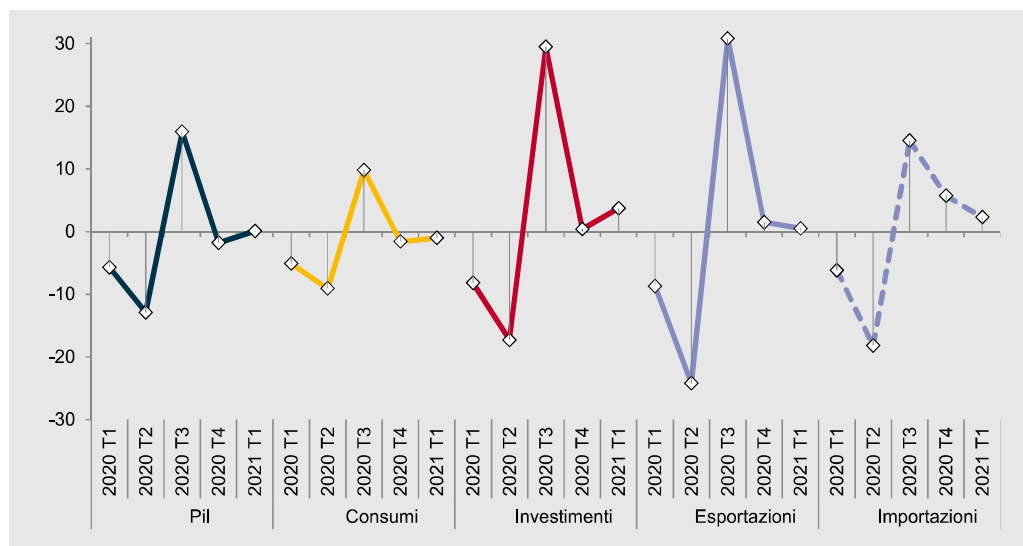
Idoneità Inglese:

Giornali Riviste

<i>traccia</i>	<i>domanda 1 - amm/ord</i>	<i>domanda 2 - lavoro</i>	<i>domanda 3 - contabilità</i>	<i>domanda 4 - stat</i>
167	14. Le fasi del procedimento amministrativo	Il principio di condizionalità nel rapporto tra politiche attive e passive del lavoro	Il riaccertamento dei residui	9

9. Cosa si intende per diagramma temporale? Cosa indica l'asse orizzontale e quello verticale? Che tipo di variazioni di considerano? Quali componenti hanno risentito maggiormente dei fattori esterni?

Figura 1.5 Pil e sue componenti in Italia. 1° trimestre 2020-1° trimestre 2021 (variazioni percentuali sul trimestre precedente)



Fonte: Istat, Conti nazionali

Idoneità Informatica (id 4):

Si consideri il testo del file "word_1":

- a. Si può inserire una tabella nel documento word? In che modo?
- b. Si divida il testo in paragrafi inserendo dei titoli in corsivo.

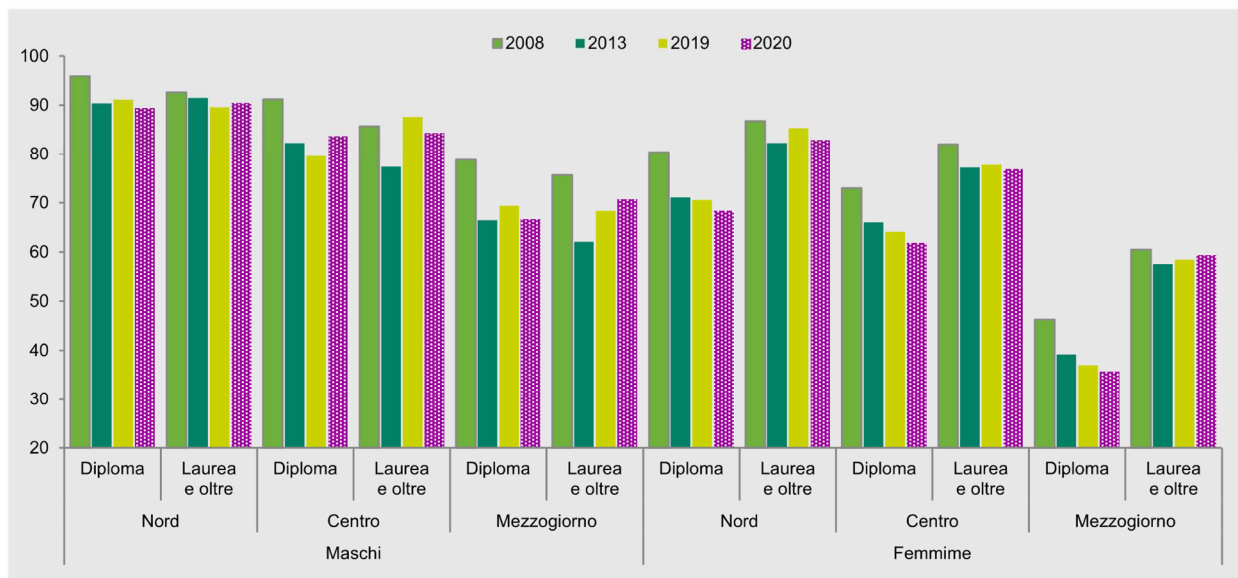
Idoneità Inglese:

Computer e tecnologia

<i>traccia</i>	<i>domanda 1 - amm/ord</i>	<i>domanda 2 - lavoro</i>	<i>domanda 3 - contabilità</i>	<i>domanda 4 - stat</i>
168	L'autotutela	4. Nell'ambito del quadro attuale definitorio dei livelli essenziali delle prestazioni in materia di politiche attive del lavoro, quali prestazioni costituiscono i diritti e/o gli standard di servizio che dovranno essere garantiti a tutti i beneficiari del Programma nazionale per la garanzia di occupabilità dei lavoratori (GOL)?	14. Il principio dell'equilibrio di bilancio nel decreto legislativo 118/2011	7

7. Osserviamo il grafico seguente: che tipo di grafico è? In base al grafico quali fattori influenzano l'occupabilità dei giovani?

Figura 3.19 Tasso di occupazione dei giovani di 30-34 anni per sesso, titolo di studio e ripartizione geografica. Anni 2008, 2013, 2019 e 2020 (valori percentuali)



Fonte: Rilevazione sulle forze di lavoro, vecchia serie

Idoneità Informatica (id 2):

Si consideri il testo del file "word_1":

- In che modo si possono aumentare i margini aumentandoli del documento
- Si inserisca l'intestazione con il proprio nome in corsivo e il numero di pagine

Idoneità Inglese:

Teatro e spettacoli

<i>traccia</i>	<i>domanda 1 - amm/ord</i>	<i>domanda 2 - lavoro</i>	<i>domanda 3 - contabilità</i>	<i>domanda 4 - stat</i>
45	I vizi di legittimità del provvedimento amministrativo	13. Modalità attuative del Percorso 4 nel Piano attuativo del Programma nazionale per la garanzia di occupabilità dei lavoratori (GOL) della regione Friuli Venezia Giulia.	I debiti fuori bilancio	3

3. Si supponga di fare un'indagine medica in cui vengono raccolte le seguenti caratteristiche sugli individui del campione. Quali sono variabili categoriche e quali sono quantitative?

- Sesso (maschio o femmina)
- Età (anni)
- Etnia (asiatico, nero, bianco, altro)
- Fumatore/trice (si, no)
- Pressione sanguigna (millimetri di mercurio)
- Presenza di calcio nel sangue (microgrammi per millimetro)

Idoneità Informatica:

Si consideri il testo del documento del file "word_2":

- si faccia il conteggio dei caratteri del testo, escluso il titolo
- si aumentino i margini e si orienti orizzontalmente la pagina

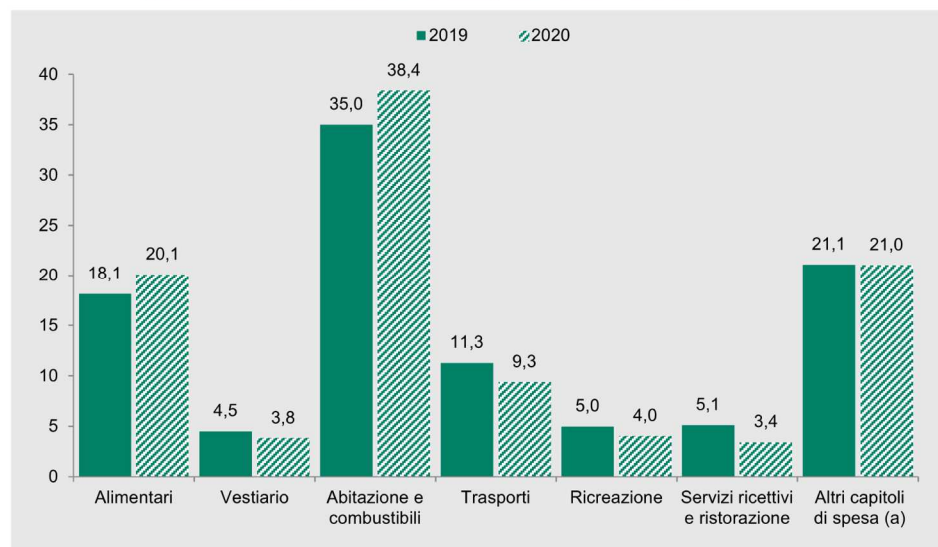
Idoneità Inglese:

Amicizie/ parentele all'estero

<i>traccia</i>	<i>domanda 1 - amm/ord</i>	<i>domanda 2 - lavoro</i>	<i>domanda 3 - contabilità</i>	<i>domanda 4 - stat</i>
161	La partecipazione al procedimento amministrativo	7. La funzione dei Piani attuativi regionali nell'ambito del Programma nazionale per la garanzia di occupabilità dei lavoratori (GOL)	Il principio della competenza finanziaria nel decreto legislativo 118/2011	13

13. Il grafico successivo cosa rappresenta? Come potremmo rappresentare gli stessi dati in modo alternativo

Figura 1.20 Spesa media mensile per capitolo di spesa. Anni 2019-2020 (composizione percentuale rispetto al totale della spesa media mensile)



Fonte: Istat, Indagine sulle spese delle famiglie
(a) Bevande alcoliche e tabacchi; Mobili, articoli e servizi per la casa; Servizi sanitari e spese per la salute; Comunicazioni; Istruzione; Altri beni e servizi.

Idoneità Informatica:

Si consideri il testo del documento del file "word_3" e si modifichi il testo:

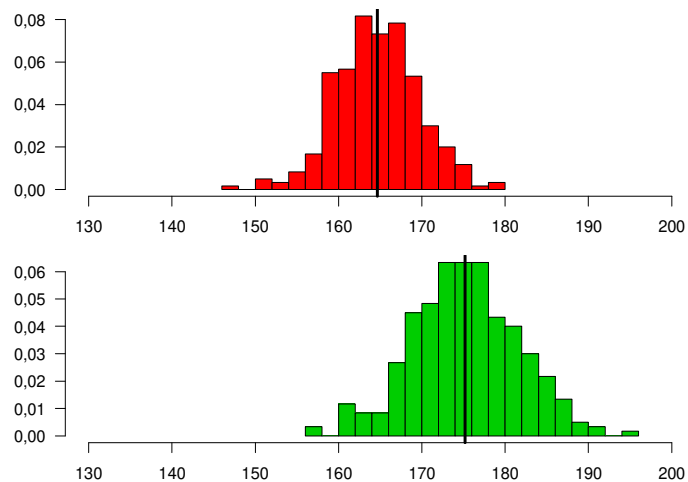
- Inserendo il carattere corsivo
- Evidenziando parti di testo in diversi modi

Idoneità Inglese:

Arte

<i>traccia</i>	<i>domanda 1 - amm/ord</i>	<i>domanda 2 - lavoro</i>	<i>domanda 3 - contabilità</i>	<i>domanda 4 - stat</i>
157	4. Organi e uffici in diritto amministrativo	Il principio di condizionalità nel rapporto tra politiche attive e passive del lavoro	Le fasi del procedimento di spesa e, in particolare, l'ordinazione e il pagamento	10

1. Confrontare le distribuzioni descritte dai due istogrammi; cosa indica la retta nera verticale? Riesco ad individuare la moda?



Idoneità Informatica:

Si consideri il documento del file "word_4" e lo si modifichi:

- Giustificando il testo
- Spostando la figura a fianco del testo

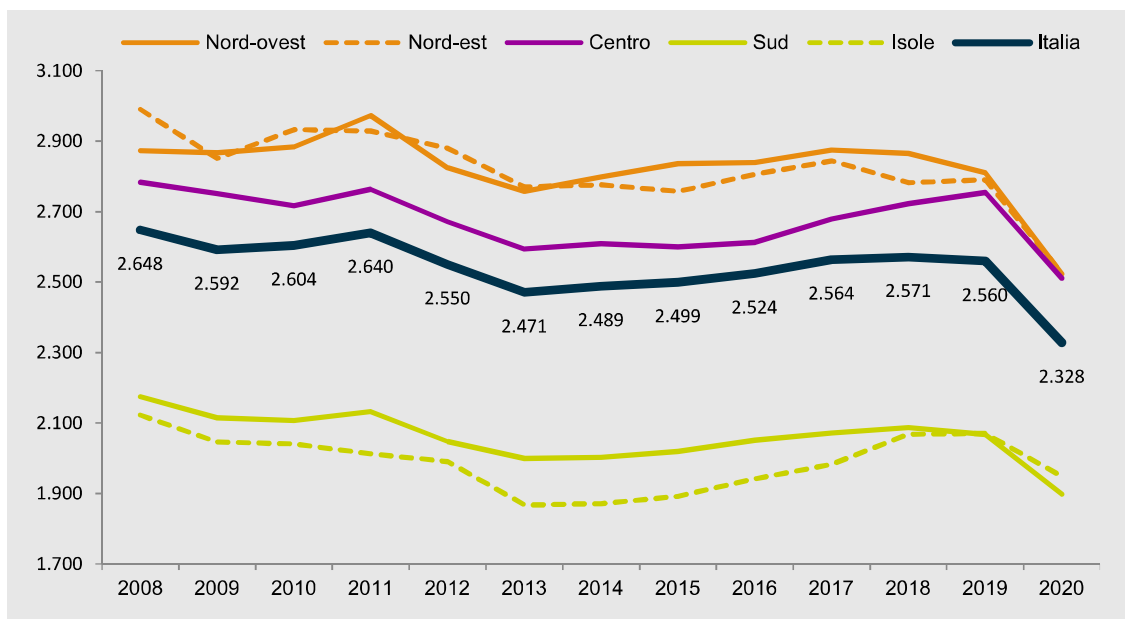
Idoneità Inglese:

Animali

<i>traccia</i>	<i>domanda 1 - amm/ord</i>	<i>domanda 2 - lavoro</i>	<i>domanda 3 - contabilità</i>	<i>domanda 4 - stat</i>
152	La motivazione del provvedimento amministrativo	2. Quali sono i beneficiari del Programma nazionale per la garanzia di occupabilità dei lavoratori (GOL)?	L'autonomia finanziaria della Regione Friuli Venezia Giulia	15

15. Commentare il grafico

Figura 1.19 Spesa media mensile delle famiglie per ripartizione geografica. Anni 2008-2020 (valori in euro)



Fonte: Istat, Indagine sulle spese delle famiglie

Idoneità Informatica:

Si consideri il documento del file "word_4" e lo si modifichi:

- Organizzando il testo in punti elenco numerati
- Spostando la figura a fianco del testo

Idoneità Inglese:

Cibo e cucina

traccia	domanda 1 - amm/ord	domanda 2 - lavoro	domanda 3 - contabilità	domanda 4 - stat
45	Avvio e conclusione del del procedimento amministrativo	13. Modalità attuative del Percorso 4 nel Piano attuativo del Programma nazionale per la garanzia di occupabilità dei lavoratori (GOL) della regione Friuli Venezia Giulia.	***Le fasi del procedimento di entrata e, in particolare, l'accertamento	3

3. Si supponga di fare un'indagine medica in cui vengono raccolte le seguenti caratteristiche sugli individui del campione. Quali sono variabili categoriche e quali sono quantitative?

- Sesso (maschio o femmina)
- Età (anni)
- Etnia (asiatico, nero, bianco, altro)
- Fumatore/trice (si, no)
- Pressione sanguigna (millimetri di mercurio)
- Presenza di calcio nel sangue (microgrammi per millimetro)

Idoneità Informatica:

Si consideri il testo del documento del file "word_2":

- si faccia il conteggio dei caratteri del testo, escluso il titolo
- si aumentino i margini e si orienti orizzontalmente la pagina

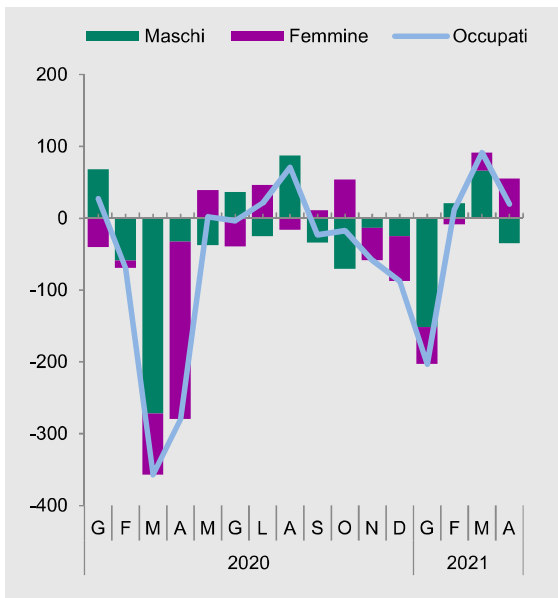
Idoneità Inglese:

Amicizie/ parentele all'estero

<i>traccia</i>	<i>domanda 1 - amm/ord</i>	<i>domanda 2 - lavoro</i>	<i>domanda 3 - contabilità</i>	<i>domanda 4 - stat</i>
31	1. L'interesse legittimo	8. La cooperazione tra i servizi pubblici per l'impiego e quelli privati nel Piano attuativo del Programma nazionale per la garanzia di occupabilità dei lavoratori (GOL) della regione Friuli-Venezia Giulia.	I residui passivi	16

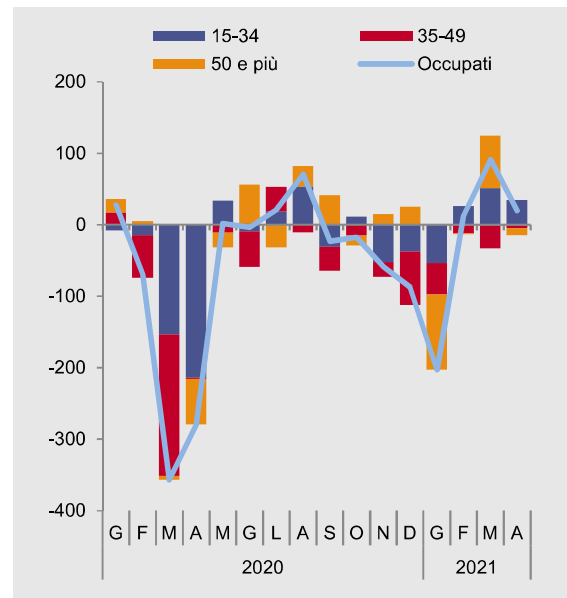
16. Cosa sono le variazioni congiunturali? Commentare il grafico nelle sue parti.

Figura 1.11a Occupati per genere. Gennaio 2020-Aprile 2021 (variazioni congiunturali assolute, dati destagionalizzati) (a)



Fonte: Istat, Rilevazione sulle forze di lavoro
(a) Dati provvisori.

Figura 1.11b Occupati per classe di età. Gennaio 2020-Aprile 2021 (variazioni congiunturali assolute, dati destagionalizzati) (a)



Fonte: Istat, Rilevazione sulle forze di lavoro
(a) Dati provvisori.

Idoneità Informatica (id 31):

Si consideri il documento del file "word_4" e lo importi in un file di presentazione powerpoint.

Idoneità Inglese:

Sport

<i>traccia</i>	<i>domanda 1 - amm/ord</i>	<i>domanda 2 - lavoro</i>	<i>domanda 3 - contabilità</i>	<i>domanda 4 - stat</i>
15	7. Atti e provvedimenti amministrativi	5. L'assessment quale strumento per la personalizzazione delle misure previste dal Programma nazionale per la garanzia di occupabilità dei lavoratori (GOL).	10. Bilancio di previsione finanziaria e bilancio finanziario gestionale nella legge regionale 26/2015	12*

12*. Si supponga di condurre una rilevazione su un campione di individui raccogliendo alcuni caratteri/variabili. Distinguere i caratteri qualitativi e quelli quantitativi.

N.id.	Sesso	Titolo di studio	Anno	Statura	Peso	Reddito
1	M	Licenza elementare	1971	182	79,8	14.300
2	M	Licenza elementare	1957	159	69,9	19.800
3	F	Diploma	1938	170	52,0	27.100
4	F	Licenza media	1939	171	56,4	23.200
5	F	Licenza media	1968	165	59,3	23.000
6	F	Licenza media	1973	167	59,6	22.400
7	F	Diploma	1940	173	63,9	23.600
8	F	Licenza media	1944	161	53,1	15.500
9	M	Licenza media	1965	172	80,4	17.600
10	F	Licenza elementare	1952	169	53,1	15.600
11	M	Licenza elementare	1979	180	81,7	18.600
12	M	Laurea	1972	187	68,4	49.700
13	F	Diploma	1985	161	56,5	21.000
14	M	Licenza media	1969	178	77,5	22.600
15	F	Diploma	1946	168	56,4	21.900
16	F	Laurea	1986	156	46,1	25.500
17	M	Diploma	1983	173	69,2	32.400
18	M	Diploma	1953	176	79,8	20.100
19	F	Licenza media	1963	175	59,6	19.800
20	M	Laurea	1982	170	65,0	34.200

Idoneità Informatica (id 15):

Si consideri la tabella nel foglio "tabella4" nel file "tabA", e si facciano le seguenti aggiunte:

- si calcoli il totale dei maschi e delle femmine
- si calcoli la percentuale di preferenze per il vino dei maschi e delle femmine

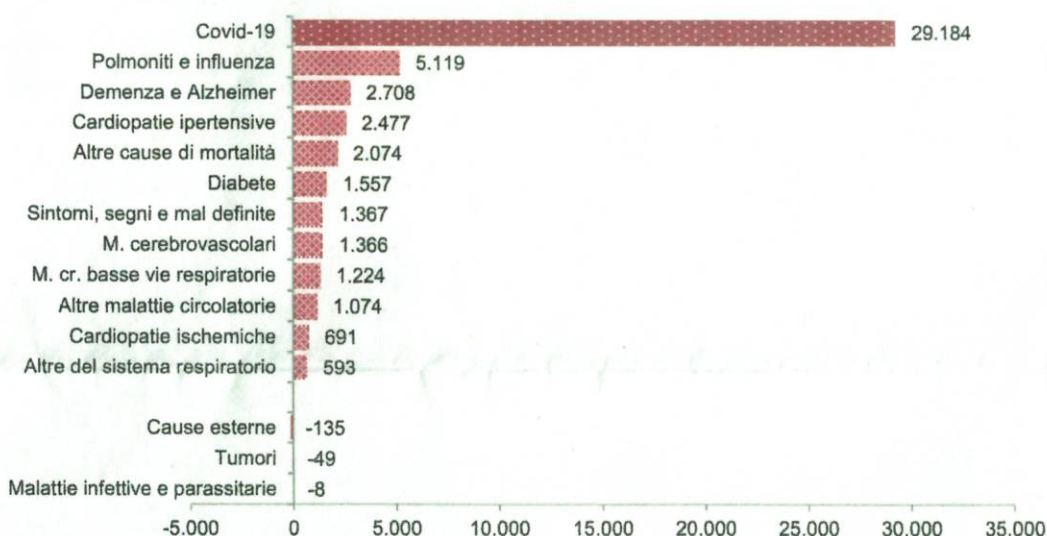
Idoneità Inglese:

Serie TV

<i>traccia</i>	<i>domanda 1 - amm/ord</i>	<i>domanda 2 - lavoro</i>	<i>domanda 3 - contabilità</i>	<i>domanda 4 - stat</i>
118	La motivazione del provvedimento amministrativo	7. La funzione dei Piani attuativi regionali nell'ambito del Programma nazionale per la garanzia di occupabilità dei lavoratori (GOL).	4. I residui passivi	1

1. Si consideri un qualsiasi insieme di dati che contiene delle informazioni. Cosa si intende per **unità statistiche** e per **variabili**? Consideriamo l'esempio riportato in tabella, quali sono le unità statistiche rilevate e la variabile/caratteristica misurata?

Figura 2.11 **Eccesso di mortalità: contributo delle cause all'incremento di marzo-aprile 2020 rispetto alla media 2015-2019 (valori assoluti)**



Fonte: Istat, Rilevazione su decessi e cause di morte

Idoneità Informatica:

Si consideri la tabella nel foglio "tabella3" nel file "tabA", e si facciano le seguenti aggiunte:

- si calcolino le somme di riga e di colonna
- si calcolino le percentuali dei maschi e delle femmine

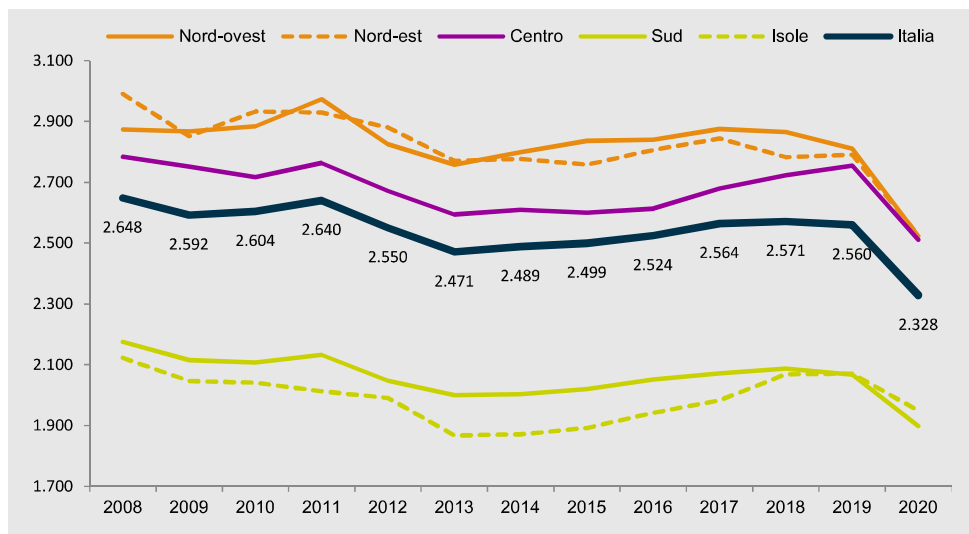
Idoneità Inglese:

Attualità

ID	domanda 1 - amm/ord	domanda 2 - lavoro	domanda 3 - contabilità	domanda 4 - stat
7	8. Elementi essenziali e accidentali del provvedimento amministrativo	3. Quali sono i percorsi individuati dal Programma nazionale per la garanzia di occupabilità dei lavoratori (GOL)?	12. Il principio della veridicità, attendibilità, correttezza e comprensibilità nel decreto legislativo 118/2011	15

15. Commentare il grafico

Figura 1.19 Spesa media mensile delle famiglie per ripartizione geografica. Anni 2008-2020 (valori in euro)



Fonte: Istat, Indagine sulle spese delle famiglie

Idoneità Informatica (id 7):

Si apra una nuova cartella di lavoro Excel e si attribuisca il nome "mia tabella" al primo foglio di lavoro, si inserisca la seguente tabella:

Nome	Punteggio
Mario	22
Sonia	30
Anna	18
Luigi	24

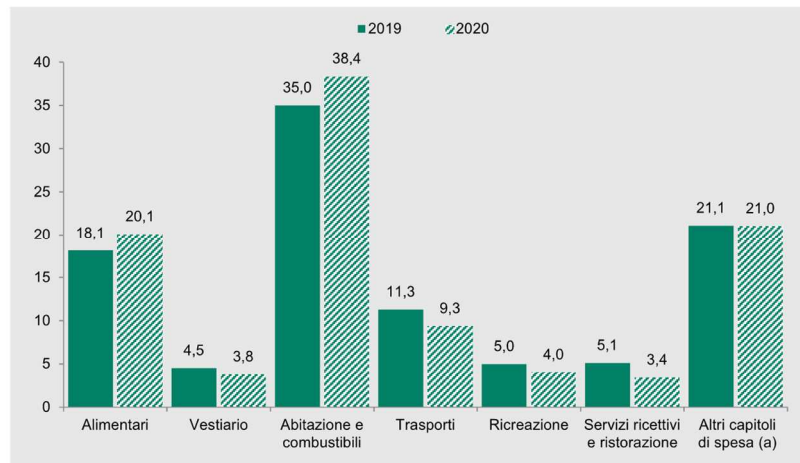
Idoneità Inglese:

Esperienze di lavoro

ID	domanda 1 - amm/ord	domanda 2 - lavoro	domanda 3 - contabilità	domanda 4 - stat
3	2. regolamenti	5. L'assessment quale strumento per la personalizzazione delle misure previste dal Programma nazionale per la garanzia di occupabilità dei lavoratori (GOL).	1. Le fasi del procedimento di spesa e, in particolare, l'impegno	5

5. Nell'analisi esplorativa dei dati si utilizzano i grafici a barre.
- Cosa indica l'altezza delle barre?
 - Possono essere escluse delle categorie nel grafico?
 - Cosa indica il grafico sotto riportato?

Figura 1.20 Spesa media mensile per capitulo di spesa. Anni 2019-2020 (composizione percentuale rispetto al totale della spesa media mensile)



Fonte: Istat, Indagine sulle spese delle famiglie
(a) Bevande alcoliche e tabacchi; Mobili, articoli e servizi per la casa; Servizi sanitari e spese per la salute; Comunicazioni; Istruzione; Altri beni e servizi.

Idoneità Informatica (id 3):

Si consideri il testo del file "word_1":

- A cosa serve la funzione Thesaurus?
- Si supponga di voler cambiare interlinea, si metta interlinea doppia e di inserire la numerazione delle righe

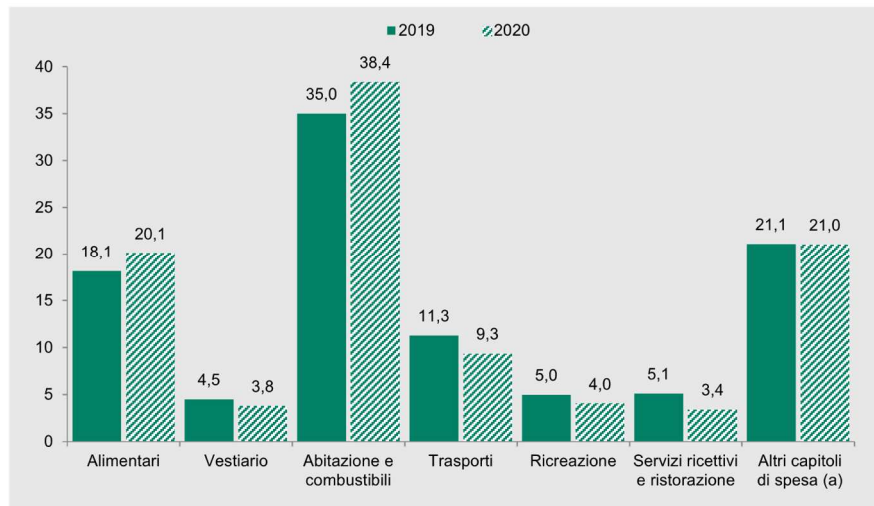
Idoneità Inglese:

Cibo e cucina

ID	domanda 1 - amm/ord	domanda 2 - lavoro	domanda 3 - contabilità	domanda 4 - stat
11	^La motivazione del provvedimento amministrativo	3. Quali sono i percorsi individuati dal Programma nazionale per la garanzia di occupabilità dei lavoratori (GOL)?	6. L'autonomia finanziaria della Regione Friuli Venezia Giulia	13

13. Il grafico successivo cosa rappresenta? Come potremmo rappresentare gli stessi dati in modo alternativo

Figura 1.20 Spesa media mensile per capitolo di spesa. Anni 2019-2020 (composizione percentuale rispetto al totale della spesa media mensile)



Fonte: Istat, Indagine sulle spese delle famiglie
(a) Bevande alcoliche e tabacchi; Mobili, articoli e servizi per la casa; Servizi sanitari e spese per la salute; Comunicazioni; Istruzione; Altri beni e servizi.

Idoneità Informatica (id 11):

Si consideri la tabella nel foglio "tabella2" nel file "tabA", e si facciano le seguenti modifiche:

- Si inserisca una nuova colonna con l'età calcolata in base all'anno di nascita

Idoneità Inglese:

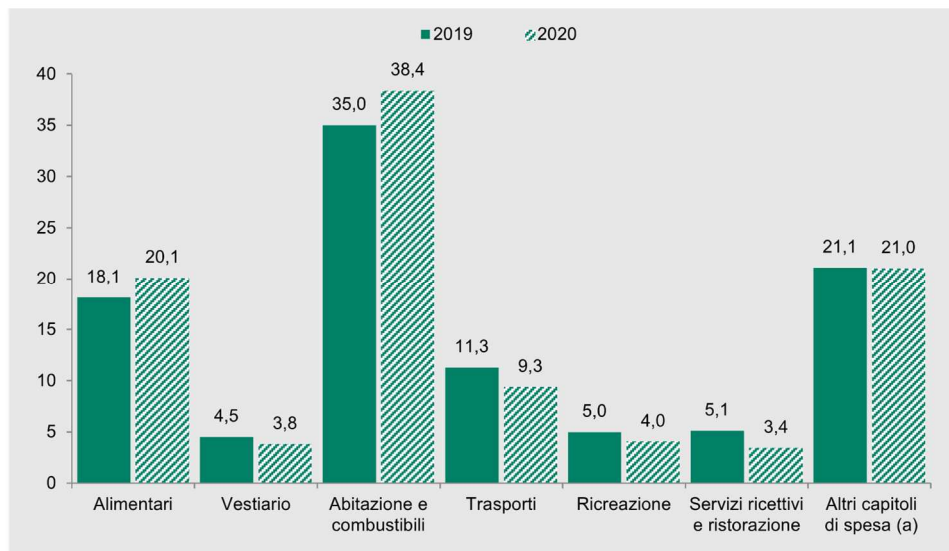
Il tempo e le stagioni

ID	domanda 1 - amm/ord	domanda 2 - lavoro	domanda 3 - contabilità	domanda 4 - stat
5	10. La competenza	13. Modalità attuative del Percorso 4 nel Piano attuativo del Programma nazionale per la garanzia di occupabilità dei lavoratori (GOL) della regione Friuli Venezia Giulia.	5. Principi costituzionali in materia di bilancio	5

5. Nell'analisi esplorativa dei dati si utilizzano i grafici a barre.

- d. Cosa indica l'altezza delle barre?
- e. Possono essere escluse delle categorie nel grafico?
- f. Cosa indica il grafico sotto riportato?

Figura 1.20 Spesa media mensile per capitolo di spesa. Anni 2019-2020 (composizione percentuale rispetto al totale della spesa media mensile)



Fonte: Istat, Indagine sulle spese delle famiglie

(a) Bevande alcoliche e tabacchi; Mobili, articoli e servizi per la casa; Servizi sanitari e spese per la salute; Comunicazioni; Istruzione; Altri beni e servizi.

Idoneità Informatica (id 5):

Si consideri il testo del file "word_1":

- a. Si evidenzino parti del testo:
 - a. Con evidenziatore
 - b. Con sottolineatura
 - c. Con testo in grassetto
- b. Si salvi il documento senza sovrascriverlo

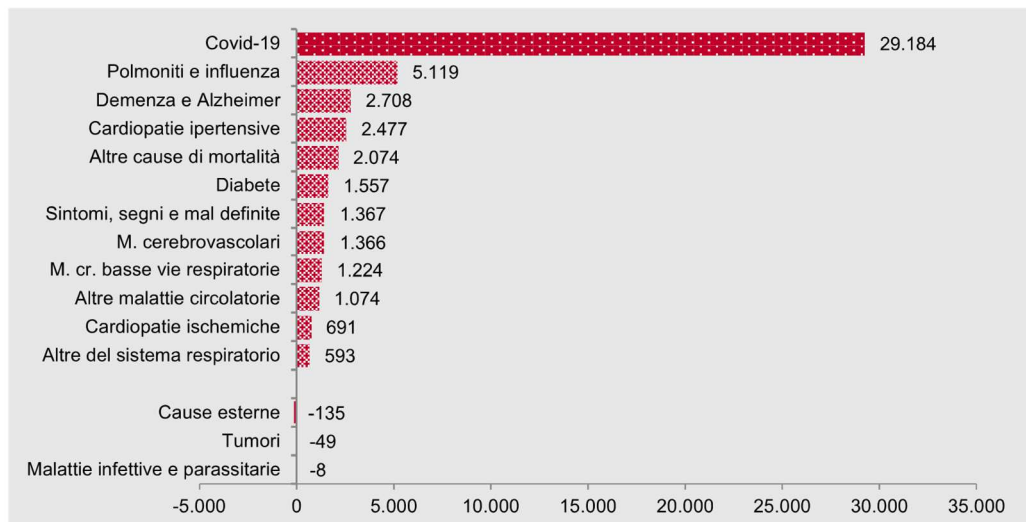
Idoneità Inglese:

Descrivi te stesso

ID	domanda 1 - amm/ord	domanda 2 - lavoro	domanda 3 - contabilità	domanda 4 - stat
9	9. La struttura del provvedimento amministrativo	9. Le azioni per la compatibilità del Programma nazionale per la garanzia di occupabilità dei lavoratori (GOL) e le misure regionali o nazionali a valere sul FSE + nel Piano attuativo della regione Friuli Venezia Giulia.	5. Principi costituzionali in materia di bilancio	1

1. Si consideri un qualsiasi insieme di dati che contiene delle informazioni. Cosa si intende per **unità statistiche** e per **variabili**? Consideriamo l'esempio riportato in tabella, quali sono le unità statistiche rilevate e la variabile/caratteristica misurata?

Figura 2.11 **Eccesso di mortalità: contributo delle cause all'incremento di marzo-aprile 2020 rispetto alla media 2015-2019 (valori assoluti)**



Fonte: Istat, Rilevazione su decessi e cause di morte

Idoneità Informatica (id 9):

Si consideri la tabella nel foglio "tabella1" nel file "tabA", e si facciano le seguenti modifiche:

- Ordinare i dati in senso crescente di anno di nascita
- Calcolare l'anno di nascita modale

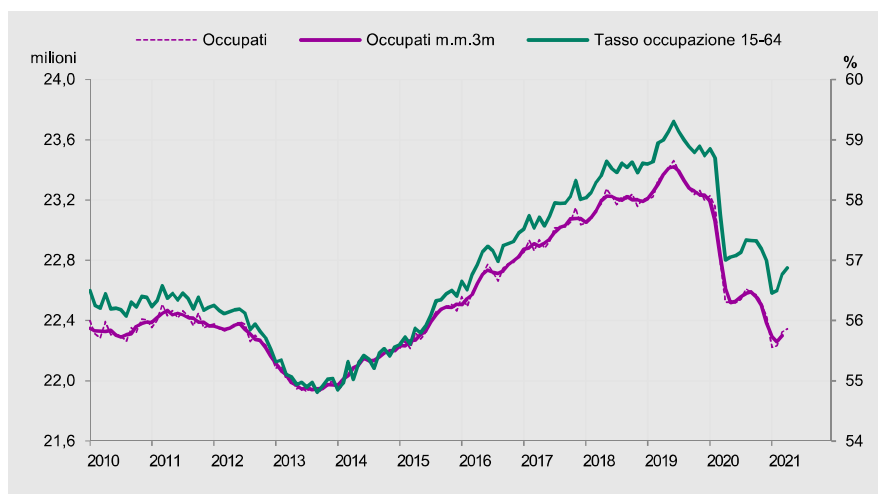
Idoneità Inglese:

Hobby

ID	domanda 1 - amm/ord	domanda 2 - lavoro	domanda 3 - contabilità	domanda 4 - stat
2	14. Le fasi del procedimento amministrativo	11. Modalità attuative del Percorso 2 nel Piano attuativo del Programma nazionale per la garanzia di occupabilità dei lavoratori (GOL) della regione Friuli Venezia Giulia.	7. I debiti fuori bilancio	12

12. Che tipo di diagramma è il seguente? A cosa corrisponde il tasso di occupazione? Commentare il grafico

Figura 1.9 Andamento dell'occupazione in Italia. Occupati (milioni, scala sinistra) e tasso di occupazione (valori percentuali, scala destra) (a). Anni 2010-2021 (aprile)



Fonte: Istat, Rilevazione sulle forze di lavoro
(a) Dati provvisori.

Idoneità Informatica (id 2):

Si consideri il testo del file "word_1":

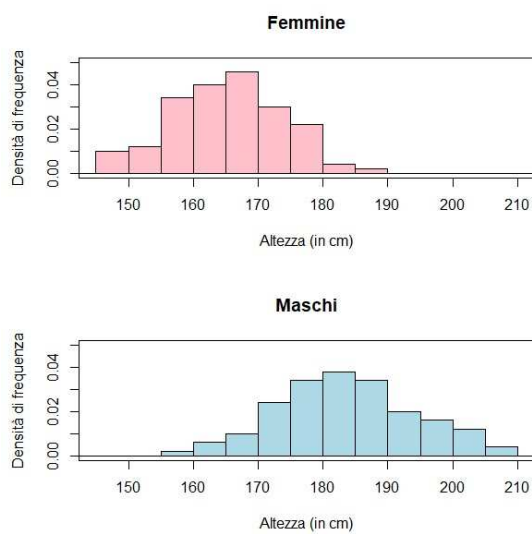
- In che modo si possono aumentare i margini aumentandoli del documento
- Si inserisca l'intestazione con il proprio nome in corsivo e il numero di pagine

Idoneità Inglese:

Casa

ID	domanda 1 - amm/ord	domanda 2 - lavoro	domanda 3 - contabilità	domanda 4 - stat
1	1. L'interesse legittimo	6. Le politiche attive del lavoro e la formazione professionale nell'ambito del Programma nazionale per la garanzia di occupabilità dei lavoratori (GOL).	3. I residui attivi	6

6. L'istogramma, utilizzato per variabili quantitative, cosa rappresenta? In un istogramma l'altezza delle barre a cosa corrisponde? Commentare i seguenti istogrammi



Idoneità Informatica (id 1):

Si consideri il testo del file "word_1":

- Si modifichi la dimensione del carattere aumentando a 14pt
- Si modifichi il tipo di carattere scegliendo a piacere
- Si attivi il conteggio delle parole

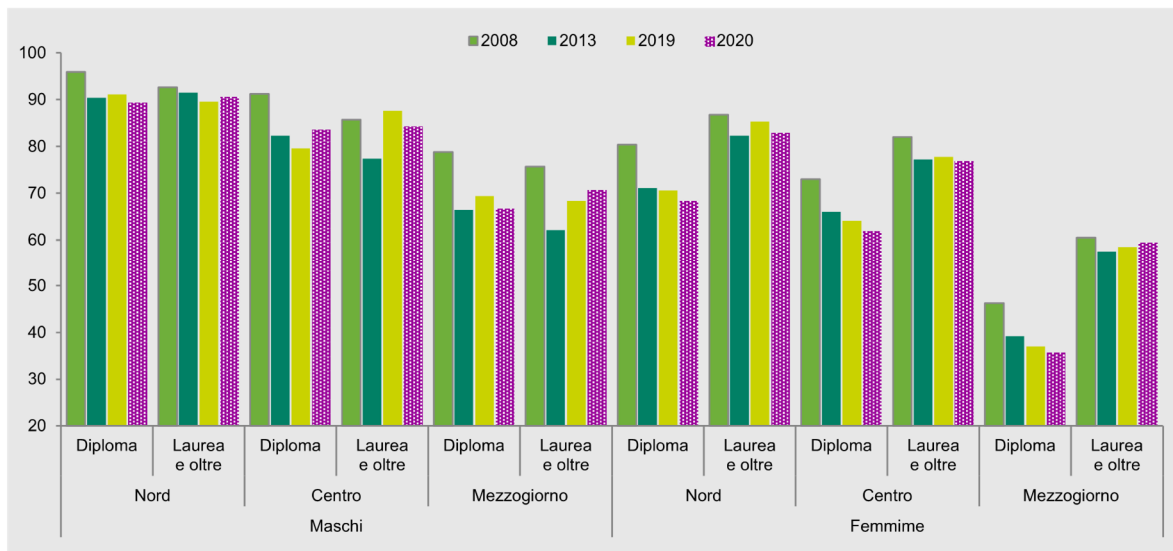
Idoneità Inglese:

Animali

ID	domanda 1 - amm/ord	domanda 2 - lavoro	domanda 3 - contabilità	domanda 4 - stat
8	3. Regolamenti e riserva di legge	5. L'assessment quale strumento per la personalizzazione delle misure previste dal Programma nazionale per la garanzia di occupabilità dei lavoratori (GOL).	4. I residui passivi	7

7. Commentiamo insieme il seguente grafico

Figura 3.19 Tasso di occupazione dei giovani di 30-34 anni per sesso, titolo di studio e ripartizione geografica. Anni 2008, 2013, 2019 e 2020 (valori percentuali)



Fonte: Rilevazione sulle forze di lavoro, vecchia serie

Idoneità Informatica (id 8):

Si consideri la tabella nel foglio "tabella1" nel file "tabA", e si facciano le seguenti modifiche:

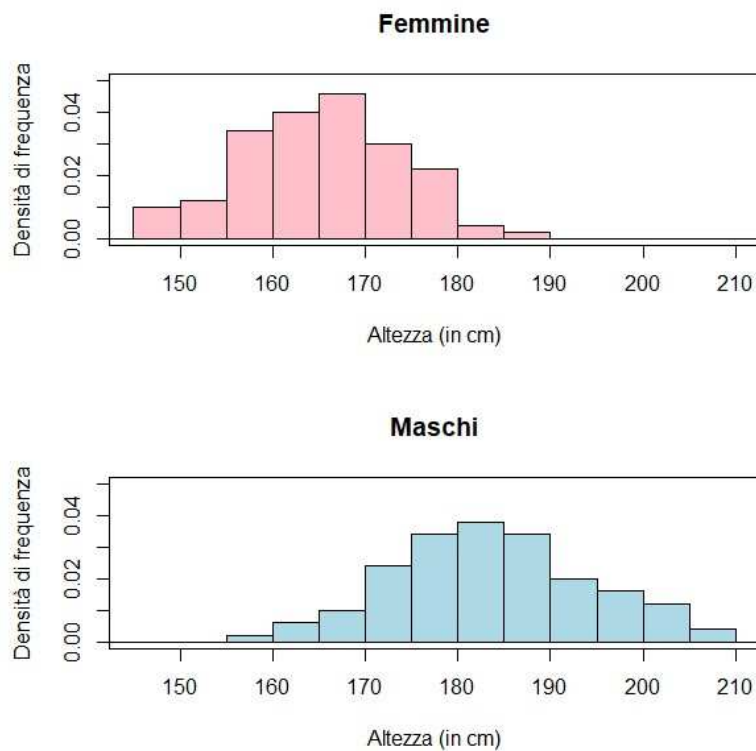
- Si allinei centralmente il testo nelle celle;
- Si calcoli l'età media degli individui in tabella
- Si calcoli il numero di maschi indicati con SEX=1

Idoneità Inglese:

Famiglia

<i>traccia</i>	<i>domanda 1 - amm/ord</i>	<i>domanda 2 - lavoro</i>	<i>domanda 3 - contabilità</i>	<i>domanda 4 - stat</i>
37	9. La struttura del provvedimento amministrativo	1. Quali sono gli obiettivi del Programma nazionale per la garanzia di occupabilità dei lavoratori (GOL)?	7. I debiti fuori bilancio	6

6. L'istogramma, utilizzato per variabili quantitative, cosa rappresenta? In un istogramma l'altezza delle barre a cosa corrisponde? Commentare i seguenti istogrammi



Idoneità Informatica:

Si consideri la tabella nel foglio "tabella4" nel file "tabA", e si facciano le seguenti aggiunte:

- si calcoli il totale dei maschi e delle femmine
- si calcoli la percentuale di preferenze per il vino dei maschi e delle femmine

Idoneità Inglese:

Rapporti con le lingue straniere

traccia	domanda 1 - amm/ord	domanda 2 - lavoro	domanda 3 - contabilità	domanda 4 - stat
26	6. Amministrazione attiva, consultiva, di controllo	I livelli essenziali delle prestazioni in materia di servizi per il lavoro	Il principio della competenza finanziaria nel decreto legislativo 118/2011	10

10. Come posso calcolare la media, la mediana e la moda di una distribuzione di un carattere qualitativo? cosa indicano queste misure? Quale di esse risente meno di variazioni nei dati?

Idoneità Informatica (id 8):

Si consideri la tabella nel foglio "tabella2" nel file "tabA", e si facciano le seguenti modifiche:

- Evidenziare (testo in grassetto o celle colorate) la riga dei nomi delle colonne
- Ordinare i dati in base a due caratteristiche a piacere

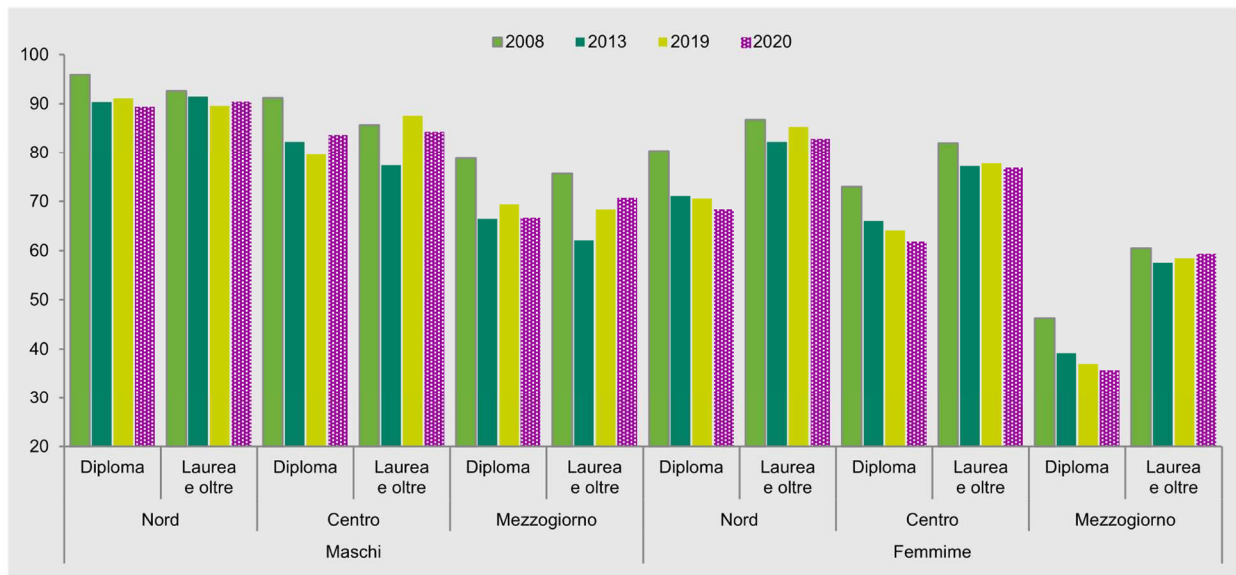
Idoneità Inglese:

Natura e clima

traccia	domanda 1 - amm/ord	domanda 2 - lavoro	domanda 3 - contabilità	domanda 4 - stat
168	I pareri	8. La cooperazione tra i servizi pubblici per l'impiego e quelli privati nel Piano attuativo del Programma nazionale per la garanzia di occupabilità dei lavoratori (GOL) della regione Friuli Venezia Giulia.	I residui passivi	7

7. Osserviamo il grafico seguente: che tipo di grafico è? In base al grafico quali fattori influenzano l'occupabilità dei giovani?

Figura 3.19 Tasso di occupazione dei giovani di 30-34 anni per sesso, titolo di studio e ripartizione geografica. Anni 2008, 2013, 2019 e 2020 (valori percentuali)



Fonte: Rilevazione sulle forze di lavoro, vecchia serie

Idoneità Informatica:

Si consideri il testo del file "word_1":

- In che modo si possono aumentare i margini aumentandoli del documento
- Si inserisca l'intestazione con il proprio nome in corsivo e il numero di pagine

Idoneità Inglese:

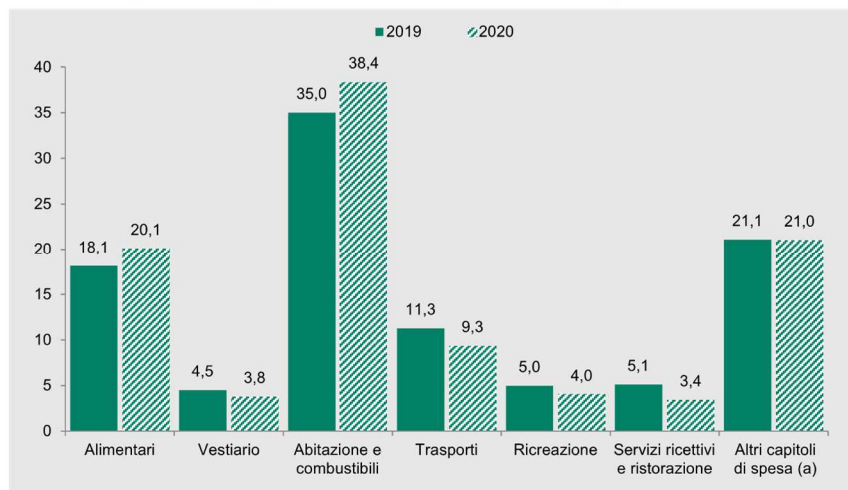
Teatro e spettacoli

<i>traccia</i>	<i>domanda 1 - amm/ord</i>	<i>domanda 2 - lavoro</i>	<i>domanda 3 - contabilità</i>	<i>domanda 4 - stat</i>
143	Nullità e annullabilità del provvedimento amministrativo	13. Modalità attuative del Percorso 5 nel Piano attuativo del Programma nazionale per la garanzia di occupabilità dei lavoratori (GOL) della regione Friuli Venezia Giulia.	*Le fasi del procedimento di spesa e, in particolare, la liquidazione	4

4. Nell'analisi esplorativa dei dati si utilizzano i diagrammi a torta.

- Come viene anche chiamato e cos'è?
- Cosa possiamo rappresentare con un diagramma a torta?
- I dati riportati sotto possono essere rappresentati da uno o più diagrammi a torta?

Figura 1.20 Spesa media mensile per capitolo di spesa. Anni 2019-2020 (composizione percentuale rispetto al totale della spesa media mensile)



Fonte: Istat, Indagine sulle spese delle famiglie
(a) Bevande alcoliche e tabacchi; Mobili, articoli e servizi per la casa; Servizi sanitari e spese per la salute; Comunicazioni; Istruzione; Altri beni e servizi.

Idoneità Informatica:

Si consideri il documento del file "word_4" e lo si modifichi:

- Organizzando il testo in punti elenco numerati
- Spostando la figura a fianco del testo

Idoneità Inglese:

Cibo e cucina

traccia	domanda 1 - amm/ord	domanda 2 - lavoro	domanda 3 - contabilità	domanda 4 - stat
156	L'autotutela	15. Modalità di attuazione dell'assessment nel Piano attuativo del Programma nazionale per la garanzia di occupabilità dei lavoratori (GOL) della regione Friuli Venezia Giulia.	La prenotazione delle risorse	10

10. Nella descrizione statistica della distribuzione di una variabile/caratteristica si valuta innanzitutto il centro della distribuzione; quali misure del centro si possono utilizzare?

Idoneità Informatica:

Si consideri il testo del documento del file "word_2":

- si faccia il conteggio dei caratteri del testo, escluso il titolo
- si aumentino i margini e si orienti orizzontalmente la pagina

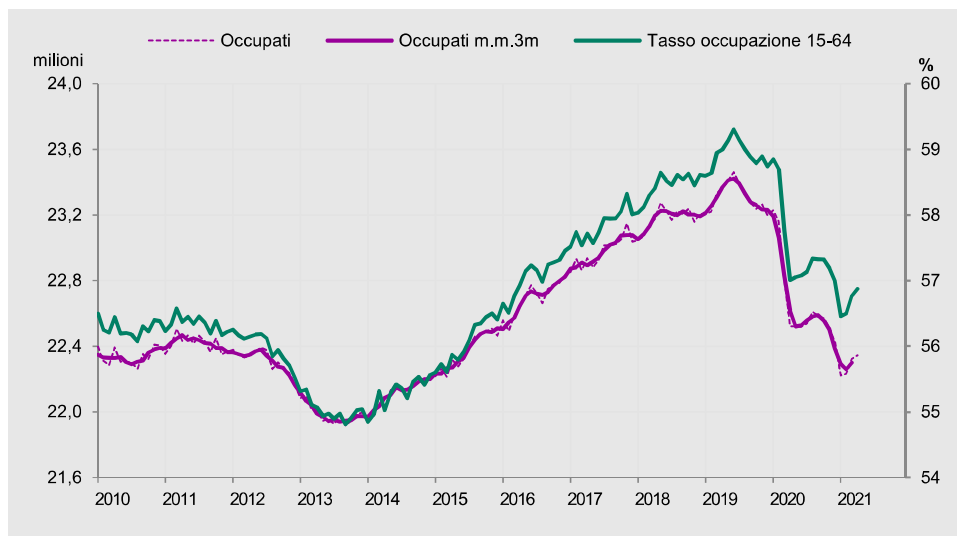
Idoneità Inglese:

Amicizie/ parentele all'estero

<i>traccia</i>	<i>domanda 1 - amm/ord</i>	<i>domanda 2 - lavoro</i>	<i>domanda 3 - contabilità</i>	<i>domanda 4 - stat</i>
138	1. L'interesse legittimo	Il principio di condizionalità nel rapporto tra politiche attive e passive del lavoro	Principi costituzionali in materia di bilancio	12

12. Che tipo di diagramma è il seguente? A cosa corrisponde il tasso di occupazione? Commentare il grafico

Figura 1.9 Andamento dell'occupazione in Italia. Occupati (milioni, scala sinistra) e tasso di occupazione (valori percentuali, scala destra) (a). Anni 2010-2021 (aprile)



Fonte: Istat, Rilevazione sulle forze di lavoro
(a) Dati provvisori.

Idoneità Informatica (id 2):

Si consideri il testo del file "word_1":

- In che modo si possono aumentare i margini aumentandoli del documento
- Si inserisca l'intestazione con il proprio nome in corsivo e il numero di pagine

Idoneità Inglese:

Teatro e spettacoli

<i>traccia</i>	<i>domanda 1 - amm/ord</i>	<i>domanda 2 - lavoro</i>	<i>domanda 3 - contabilità</i>	<i>domanda 4 - stat</i>
114	4. Organi e uffici in diritto amministrativo	12. Modalità attuative del Percorso 3 nel Piano attuativo del Programma nazionale per la garanzia di occupabilità dei lavoratori (GOL) della regione Friuli Venezia Giulia.	11. I principi di annualità, unità e universalità nel decreto legislativo 118/2011	2

Una variabile è una caratteristica associata alle unità statistiche, che può assumere valori diversi sulle diverse unità. Si faccia un esempio di variabile **categorica** e di variabile **quantitativa**. Cosa si intende per distribuzione di una variabile?

Idoneità Informatica:

Si consideri la tabella nel foglio "tabella 6":

- si crei una tabella con i totali di laureati per dipartimento

Idoneità Inglese:

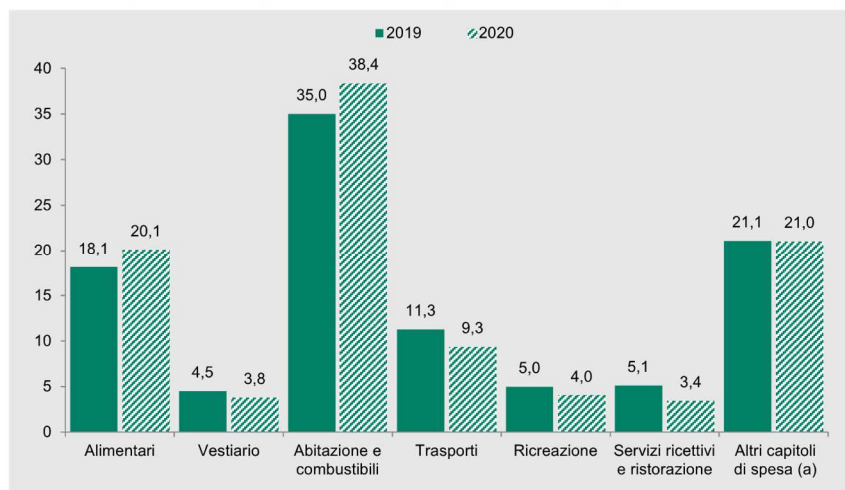
Musica

<i>traccia</i>	<i>domanda 1 - amm/ord</i>	<i>domanda 2 - lavoro</i>	<i>domanda 3 - contabilità</i>	<i>domanda 4 - stat</i>
115	13. Il procedimento amministrativo	10. Modalità attuative del Percorso 1 nel Piano attuativo del Programma nazionale per la garanzia di occupabilità dei lavoratori (GOL) della regione Friuli Venezia Giulia.	Bilancio di previsione finanziaria e bilancio finanziario gestionale nella legge regionale 26/2015	5

5. Nell'analisi esplorativa dei dati si utilizzano i grafici a barre.

- Cosa indica l'altezza delle barre?
- Possono essere escluse delle categorie nel grafico?
- Cosa indica il grafico sotto riportato?

Figura 1.20 Spesa media mensile per capitolo di spesa. Anni 2019-2020 (composizione percentuale rispetto al totale della spesa media mensile)



Fonte: Istat, Indagine sulle spese delle famiglie
(a) Bevande alcoliche e tabacchi; Mobili, articoli e servizi per la casa; Servizi sanitari e spese per la salute; Comunicazioni; Istruzione; Altri beni e servizi.

Idoneità Informatica:

Si consideri la tabella nel foglio "tabella1" nel file "tabA", e si facciano le seguenti modifiche:

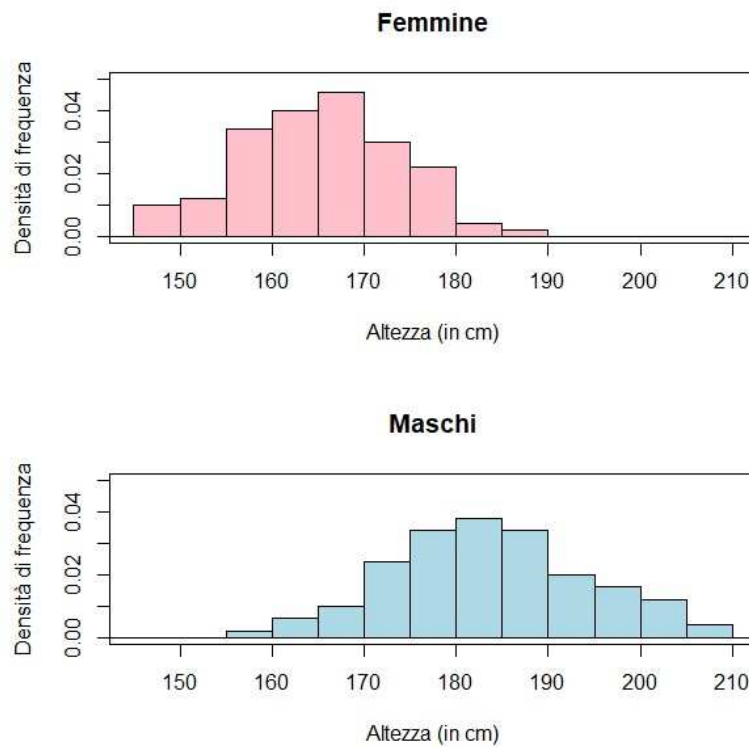
- Si allinei centralmente il testo nelle celle;
- Si calcoli l'età media degli individui in tabella
- Si calcoli il numero di maschi indicati con SEX=1

Idoneità Inglese:

Amici

<i>traccia</i>	<i>domanda 1 - amm/ord</i>	<i>domanda 2 - lavoro</i>	<i>domanda 3 - contabilità</i>	<i>domanda 4 - stat</i>
137	Obbligo di comunicazione di avvio del procedimento e intervento nel procedimento	5. L'assessment quale strumento per la personalizzazione delle misure previste dal Programma nazionale per la garanzia di occupabilità dei lavoratori (GOL).	14. Il principio della flessibilità nel decreto legislativo 118/2011	14

6. L'istogramma, utilizzato per variabili quantitative, cosa rappresenta? In un istogramma l'altezza delle barre a cosa corrisponde? Commentare i seguenti istogrammi



Idoneità Informatica:

Si consideri la tabella nel foglio "tabella 6":

- si calcolino le somme totali, i valori medi e massimi delle tre colonne riportate

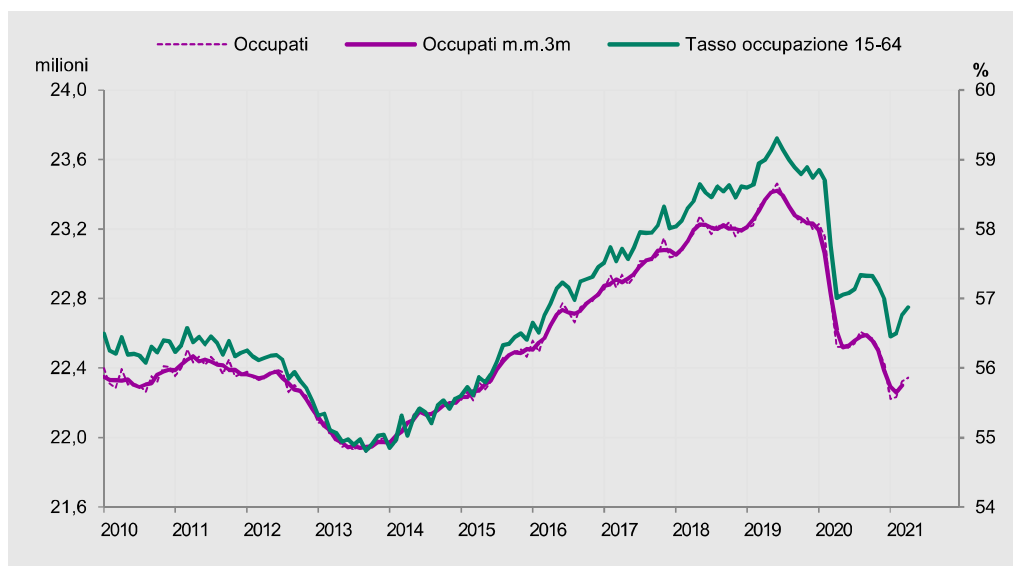
Idoneità Inglese:

Il meteo

<i>traccia</i>	<i>domanda 1 - amm/ord</i>	<i>domanda 2 - lavoro</i>	<i>domanda 3 - contabilità</i>	<i>domanda 4 - stat</i>
75	Organi e uffici in diritto amministrativo	Quali sono gli obiettivi del Programma nazionale per la garanzia di occupabilità dei lavoratori (GOL)?	***Le fasi del procedimento di entrata e, in particolare, l'accertamento	12

12.Che tipo di diagramma è il seguente? A cosa corrisponde il tasso di occupazione? Commentare il grafico

Figura 1.9 Andamento dell'occupazione in Italia. Occupati (milioni, scala sinistra) e tasso di occupazione (valori percentuali, scala destra) (a). Anni 2010-2021 (aprile)



Fonte: Istat, Rilevazione sulle forze di lavoro
(a) Dati provvisori.

Idoneità Informatica:

Si consideri il documento del file "word_4" e lo importi in un file di presentazione powerpoint.

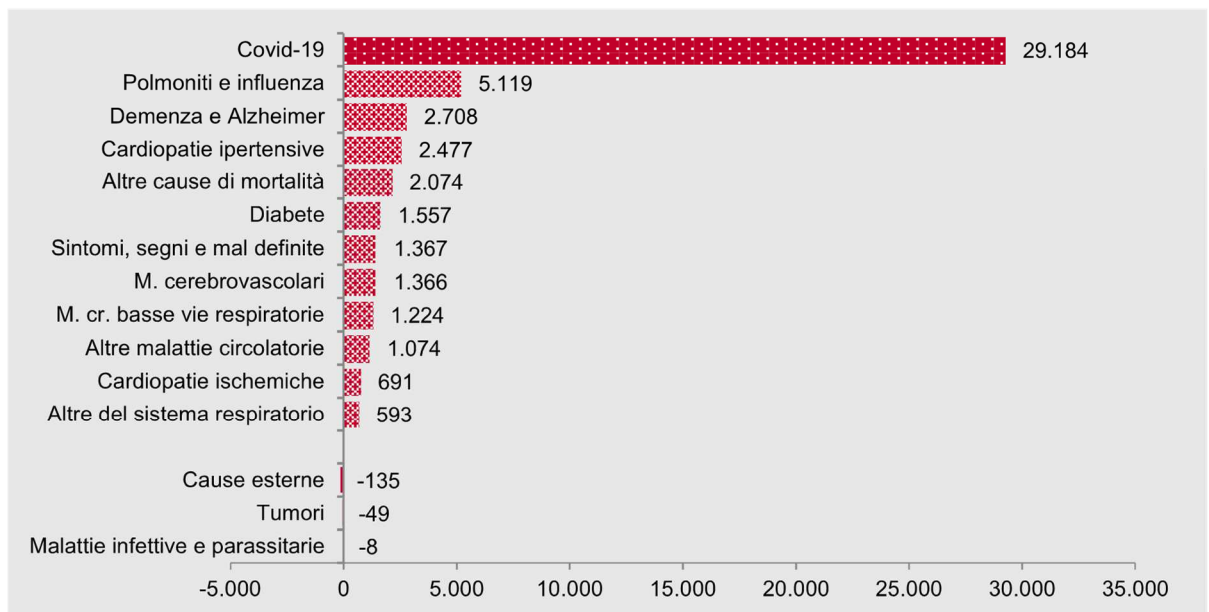
Idoneità Inglese:

Viaggi

<i>traccia</i>	<i>domanda 1 - amm/ord</i>	<i>domanda 2 - lavoro</i>	<i>domanda 3 - contabilità</i>	<i>domanda 4 - stat</i>
60	7. Atti e provvedimenti amministrativi	6. Le politiche attive del lavoro e la formazione professionale nell'ambito del Programma nazionale per la garanzia di occupabilità dei lavoratori (GOL).	7. I debiti fuori bilancio	1

1. Si consideri un qualsiasi insieme di dati che contiene delle informazioni. Cosa si intende per **unità statistiche** e per **variabili**? Consideriamo l'esempio riportato in tabella, quali sono le unità statistiche rilevate e la variabile/caratteristica misurata?

Figura 2.11 Eccesso di mortalità: contributo delle cause all'incremento di marzo-aprile 2020 rispetto alla media 2015-2019 (valori assoluti)



Fonte: Istat, Rilevazione su decessi e cause di morte

Idoneità Informatica (id 31):

Si consideri il documento del file "word_4" e lo importi in un file di presentazione powerpoint.

Idoneità Inglese:

Sport

<i>traccia</i>	<i>domanda 1 - amm/ord</i>	<i>domanda 2 - lavoro</i>	<i>domanda 3 - contabilità</i>	<i>domanda 4 - stat</i>
27*	La struttura del provvedimento amministrativo	3. Quali sono i percorsi individuati dal Programma nazionale per la garanzia di occupabilità dei lavoratori (GOL)?	15. Il principio della competenza finanziaria nel decreto legislativo 118/2011	3

3. Si supponga di fare un'indagine sui percorsi di studio universitari in cui vengono raccolte le seguenti caratteristiche sugli individui del campione. Quali sono variabili categoriche e quali sono quantitative?

- Sesso (maschio o femmina)
- Tipo laurea
- Voto Laurea
- Corso di Laurea
- Regolarità (laurea fuori corso/non fuori corso)
- Occupazione (occupato/non occupato)

Idoneità Informatica:

Si consideri il testo del file "word_1":

- a. Si evidenzino parti del testo:
 - a. Con evidenziatore
 - b. Con sottolineatura
 - c. Con testo in grassetto

Idoneità Inglese:

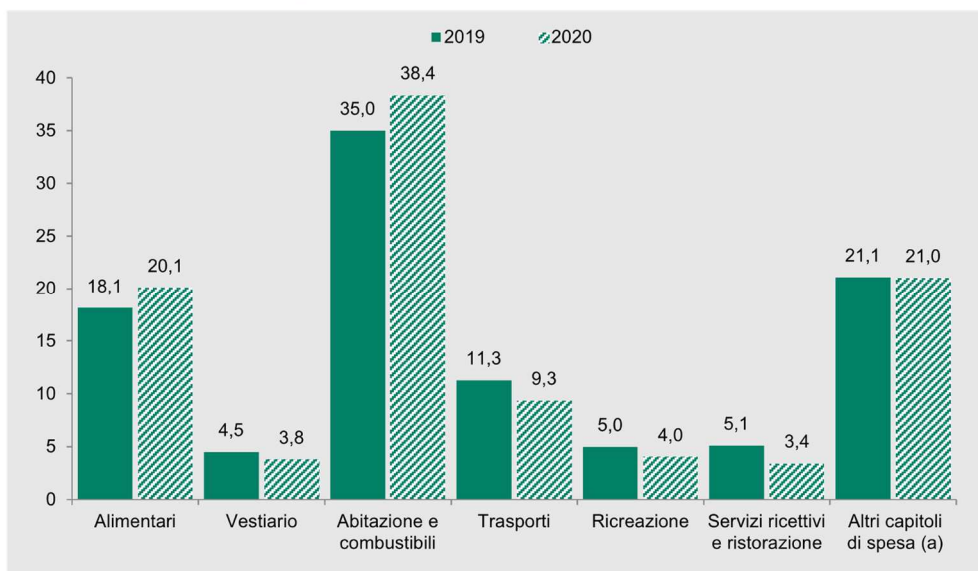
Serie TV

<i>traccia</i>	<i>domanda 1 - amm/ord</i>	<i>domanda 2 - lavoro</i>	<i>domanda 3 - contabilità</i>	<i>domanda 4 - stat</i>
82	I pareri	Quali sono i beneficiari del Programma nazionale per la garanzia di occupabilità dei lavoratori (GOL)?	3. I residui attivi	5

5. Nell'analisi esplorativa dei dati si utilizzano i grafici a barre.

- Cosa indica l'altezza delle barre?
- Possono essere escluse delle categorie nel grafico?
- Cosa indica il grafico sotto riportato?

Figura 1.20 Spesa media mensile per capitolo di spesa. Anni 2019-2020 (composizione percentuale rispetto al totale della spesa media mensile)



Fonte: Istat, Indagine sulle spese delle famiglie

(a) Bevande alcoliche e tabacchi; Mobili, articoli e servizi per la casa; Servizi sanitari e spese per la salute; Comunicazioni; Istruzione; Altri beni e servizi.

Idoneità Informatica:

Si consideri il testo del file "word_1":

- Si evidenzino parti del testo:
 - Con evidenziatore
 - Con sottolineatura
 - Con testo in grassetto

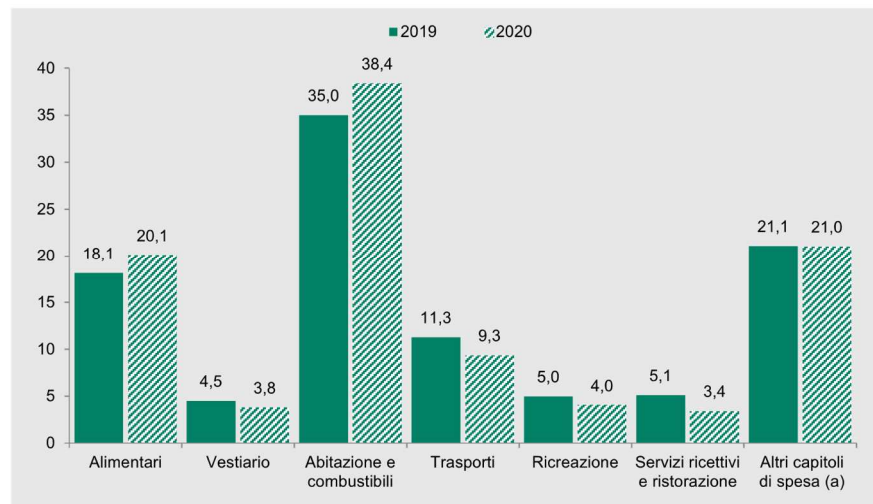
Idoneità Inglese:

Cinema

<i>traccia</i>	<i>domanda 1 - amm/ord</i>	<i>domanda 2 - lavoro</i>	<i>domanda 3 - contabilità</i>	<i>domanda 4 - stat</i>
77	L'autotutela	13. Modalità attuative del Percorso 4 nel Piano attuativo del Programma nazionale per la garanzia di occupabilità dei lavoratori (GOL) della regione Friuli Venezia Giulia.	1. Le fasi del procedimento di spesa e, in particolare, l'impegno	13

13. Il grafico successivo cosa rappresenta? Come potremmo rappresentare gli stessi dati in modo alternativo

Figura 1.20 Spesa media mensile per capitolo di spesa. Anni 2019-2020 (composizione percentuale rispetto al totale della spesa media mensile)



Fonte: Istat, Indagine sulle spese delle famiglie
(a) Bevande alcoliche e tabacchi; Mobili, articoli e servizi per la casa; Servizi sanitari e spese per la salute; Comunicazioni; Istruzione; Altri beni e servizi.

Idoneità Informatica (id 4):

Apri un documento word e crea un tabella 3X2

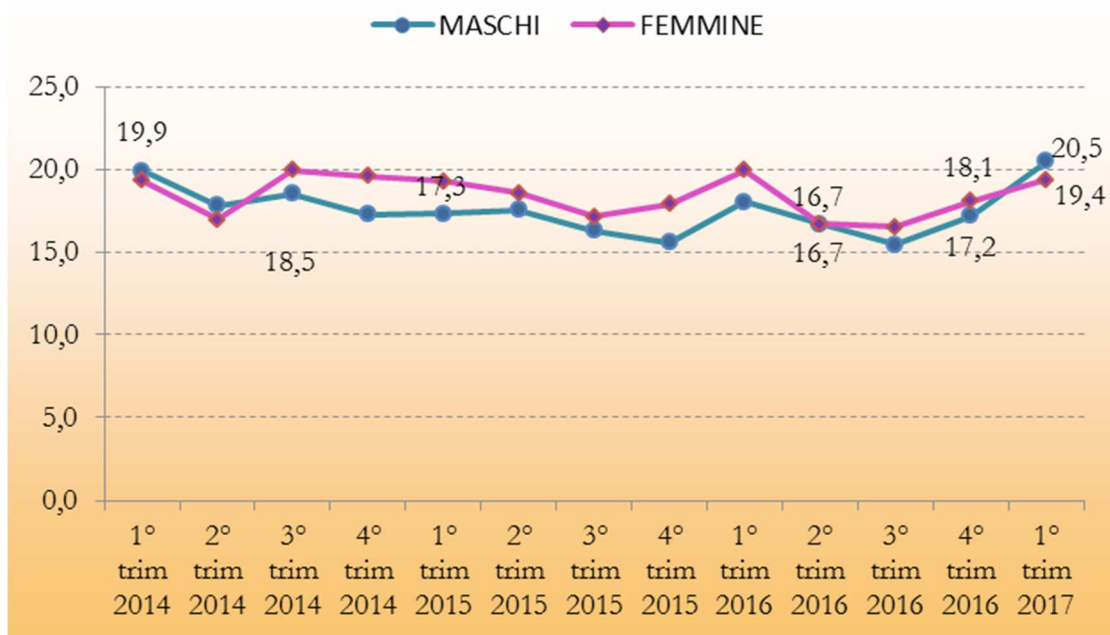
Idoneità Inglese:

Presenta te stesso

<i>traccia</i>	<i>domanda 1 - amm/ord</i>	<i>domanda 2 - lavoro</i>	<i>domanda 3 - contabilità</i>	<i>domanda 4 - stat</i>
95	15. Avvio e conclusione del procedimento amministrativo	11. Modalità attuative del Percorso 2 nel Piano attuativo del Programma nazionale per la garanzia di occupabilità dei lavoratori (GOL) della regione Friuli Venezia-Giulia.	5. Principi costituzionali in materia di bilancio	9**

9**. A cosa corrisponde il tasso di disoccupazione? Che indica il grafico sotto riportato?

Grafico 4 - Tasso di disoccupazione per genere dal 1° trim. '13 al 1° trim. '17



Idoneità Informatica:

Si consideri il testo del file "word_1":

- Si può inserire una tabella nel documento word? In che modo?
- Si divida il testo in paragrafi inserendo dei titoli in corsivo.

Idoneità Inglese:

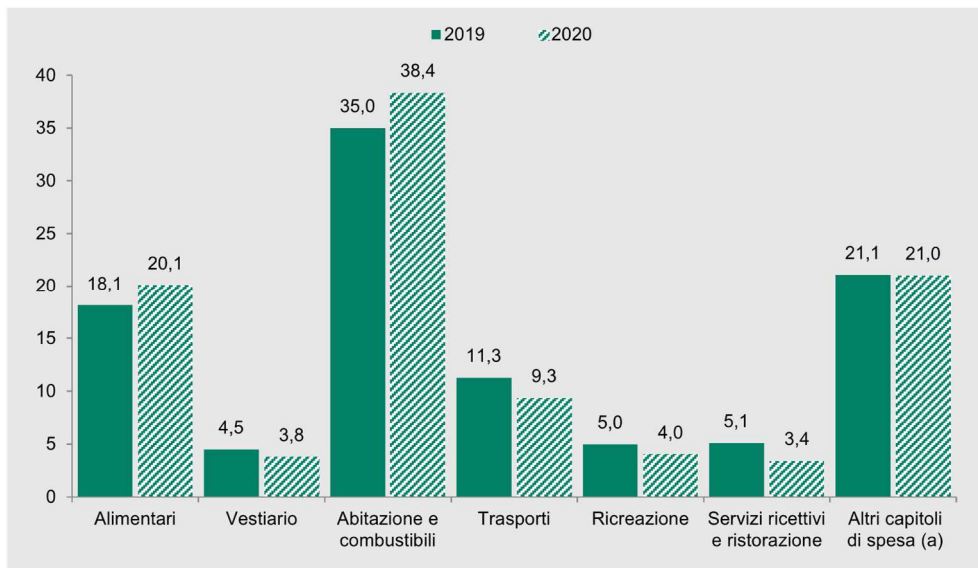
Libri

<i>traccia</i>	<i>domanda 1 - amm/ord</i>	<i>domanda 2 - lavoro</i>	<i>domanda 3 - contabilità</i>	<i>domanda 4 - stat</i>
96	I regolamenti	La funzione dei Piani attuativi regionali nell'ambito del Programma nazionale per la garanzia di occupabilità dei lavoratori (GOL).	4. I residui passivi	9

5. Nell'analisi esplorativa dei dati si utilizzano i grafici a barre.

- Cosa indica l'altezza delle barre?
- Possono essere escluse delle categorie nel grafico?
- Cosa indica il grafico sotto riportato?

Figura 1.20 Spesa media mensile per capitolo di spesa. Anni 2019-2020 (composizione percentuale rispetto al totale della spesa media mensile)



Fonte: Istat, Indagine sulle spese delle famiglie

(a) Bevande alcoliche e tabacchi; Mobili, articoli e servizi per la casa; Servizi sanitari e spese per la salute; Comunicazioni; Istruzione; Altri beni e servizi.

Idoneità Informatica:

Si consideri la tabella nel foglio "tabella1" nel file "tabA", e si facciano le seguenti modifiche:

- Si allinei centralmente il testo nelle celle;
- Si calcoli l'età media degli individui in tabella
- Si calcoli il numero di maschi indicati con SEX=1

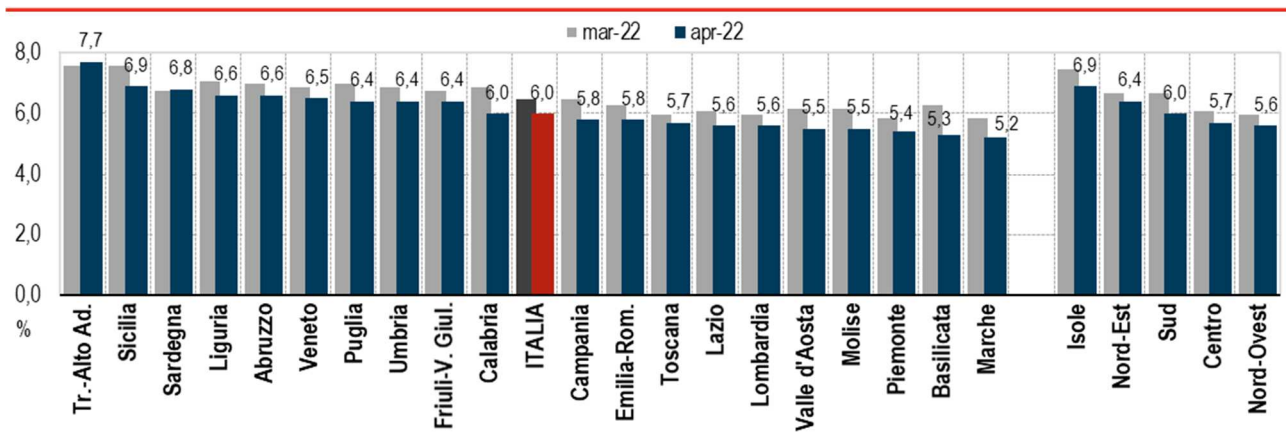
Idoneità Inglese:

Trasmissioni TV o Radio

traccia	domanda 1 - amm/ord	domanda 2 - lavoro	domanda 3 - contabilità	domanda 4 - stat
90	I provvedimenti di autorizzazione e concessione	13. Modalità attuative del Percorso 4 nel Piano attuativo del Programma nazionale per la garanzia di occupabilità dei lavoratori (GOL) della regione Friuli Venezia Giulia.	2. La prenotazione delle risorse	12new

12new. Che tipo di diagramma è il seguente? Cosa descrive?

FIGURA 5. INDICI DEI PREZZI AL CONSUMO NIC PER REGIONE E RIPARTIZIONE GEOGRAFICA Marzo – aprile 2022, variazioni percentuali tendenziali (base 2015=100)



Idoneità Informatica:

Si consideri il testo del file “word_1”:

- a. Si modifichi la dimensione del carattere aumentando a 14pt
- b. Si modifichi il tipo di carattere scegliendo a piacere
- c. Si attivi il conteggio delle parole

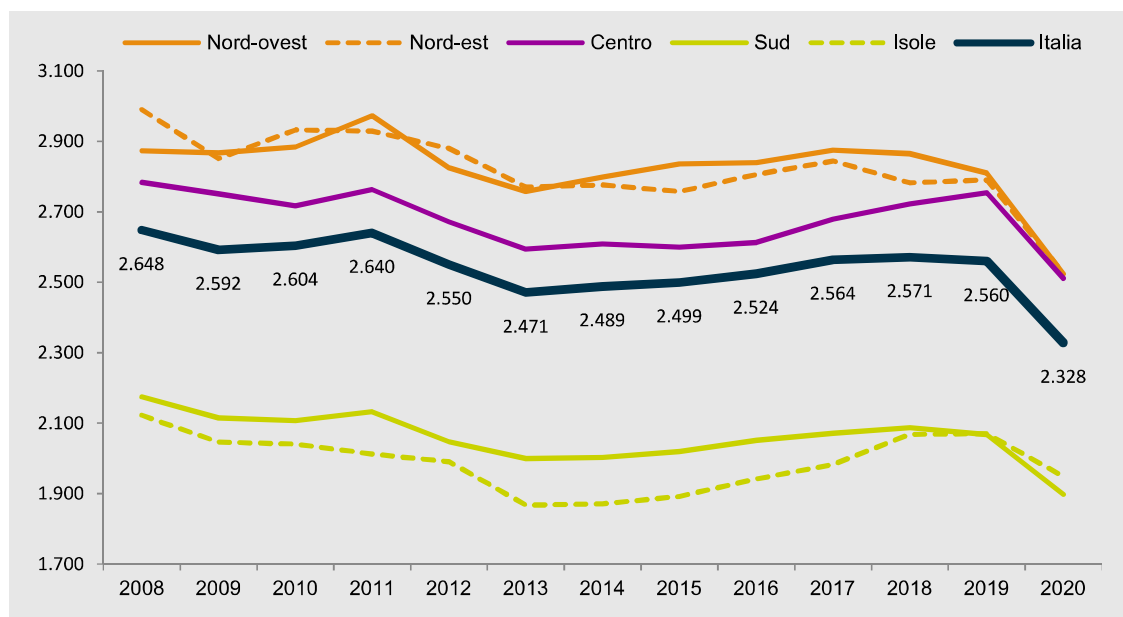
Idoneità Inglese:

Cucina

traccia	domanda 1 - amm/ord	domanda 2 - lavoro	domanda 3 - contabilità	domanda 4 - stat
102	La partecipazione al procedimento amministrativo	10. Modalità attuative del Percorso 1 nel Piano attuativo del Programma nazionale per la garanzia di occupabilità dei lavoratori (GOL) della regione Friuli Venezia Giulia.	14. Il principio dell'equilibrio di bilancio nel decreto legislativo 118/2011	15

15. Commentare il grafico

Figura 1.19 Spesa media mensile delle famiglie per ripartizione geografica. Anni 2008-2020 (valori in euro)



Fonte: Istat, Indagine sulle spese delle famiglie

Idoneità Informatica:

Si consideri la tabella nel foglio "tabella4" nel file "tabA", e si facciano le seguenti aggiunte:

- si calcoli il totale dei maschi e delle femmine
- si calcoli la percentuale di preferenze per il vino dei maschi e delle femmine

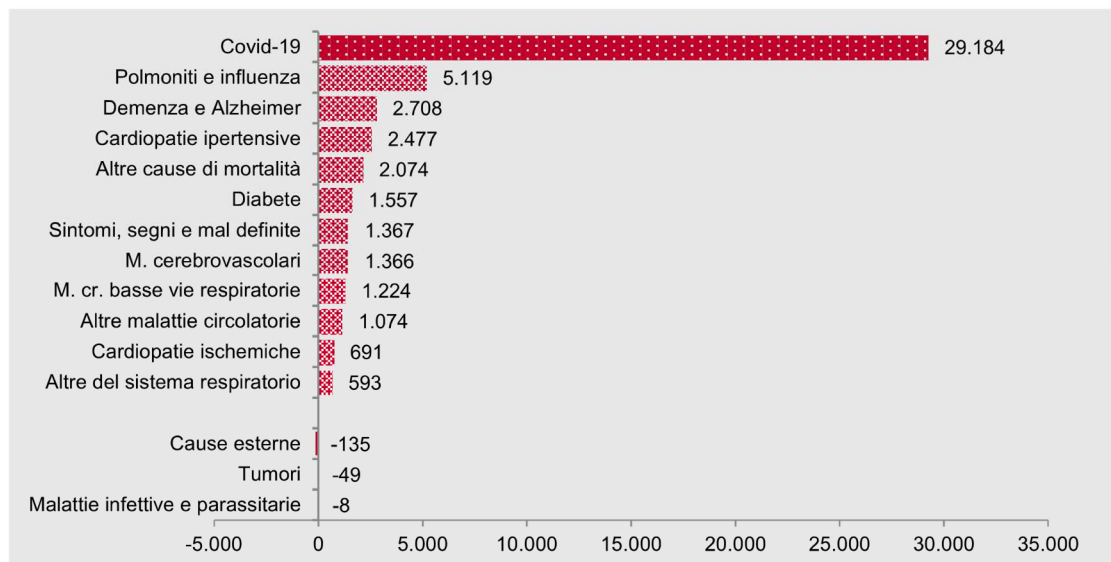
Idoneità Inglese:

Amici

<i>traccia</i>	<i>domanda 1 - amm/ord</i>	<i>domanda 2 - lavoro</i>	<i>domanda 3 - contabilità</i>	<i>domanda 4 - stat</i>
105	Le fasi del procedimento amministrativo	Quali sono gli obiettivi del Programma nazionale per la garanzia di occupabilità dei lavoratori (GOL)?	13. Il principio della flessibilità nel decreto legislativo 118/2011	1

1. Si consideri un qualsiasi insieme di dati che contiene delle informazioni. Cosa si intende per **unità statistiche** e per **variabili**? Consideriamo l'esempio riportato in tabella, quali sono le unità statistiche rilevate e la variabile/caratteristica misurata?

Figura 2.11 Eccesso di mortalità: contributo delle cause all'incremento di marzo-aprile 2020 rispetto alla media 2015-2019 (valori assoluti)



Fonte: Istat, Rilevazione su decessi e cause di morte

Idoneità Informatica (id 31):

Si consideri la tabella nel foglio "tabella4" nel file "tabA", e si facciano le seguenti modifiche:

- copiare la tabella trasponendola

Idoneità Inglese:

Tempo libero

<i>traccia</i>	<i>domanda 1 - amm/ord</i>	<i>domanda 2 - lavoro</i>	<i>domanda 3 - contabilità</i>	<i>domanda 4 - stat</i>
94	10. competenza La	Modalità attuative del Percorso 3 nel Piano attuativo del Programma nazionale per la garanzia di occupabilità dei lavoratori (GOL) della regione Friuli Venezia Giulia.	Il riaccertamento dei residui	3

3. Si supponga di fare un'indagine medica in cui vengono raccolte le seguenti caratteristiche sugli individui del campione. Quali sono variabili categoriche e quali sono quantitative?

- Sesso (maschio o femmina)
- Età (anni)
- Etnia (asiatico, nero, bianco, altro)
- Fumatore/trice (si, no)
- Pressione sanguigna (millimetri di mercurio)
- Presenza di calcio nel sangue (microgrammi per millimetro)

Idoneità Informatica:

Si consideri il testo del file "word_1":

- a. Organizzare il testo aumentando i margini e inserendo un riquadro

Idoneità Inglese:

Quotidiani

traccia	domanda 1 - amm/ord	domanda 2 - lavoro	domanda 3 - contabilità	domanda 4 - stat
99	Nullità e annullabilità del provvedimento amministrativo	L'assessment quale strumento per la personalizzazione delle misure previste dal Programma nazionale per la garanzia di occupabilità dei lavoratori (GOL).	Le fasi del procedimento di spesa e, in particolare, la liquidazione	3

3. Si supponga di fare un'indagine medica in cui vengono raccolte le seguenti caratteristiche sugli individui del campione. Quali sono variabili categoriche e quali sono quantitative?

- Sesso (maschio o femmina)
- Età (anni)
- Etnia (asiatico, nero, bianco, altro)
- Fumatore/trice (si, no)
- Pressione sanguigna (millimetri di mercurio)
- Presenza di calcio nel sangue (microgrammi per millimetro)

Idoneità Informatica:

Si consideri la tabella nel foglio "tabella2" nel file "tabA", e si facciano le seguenti modifiche:

- Evidenziare la riga dei nomi delle colonne
- Ordinare i dati in base alla classe di età

Idoneità Inglese:

Parenti